

PRETEST

Nama : Kevin Arsenio Ahza Saputra
 Kelas :)

55

I. Jawablah pertanyaan di bawah ini dengan cara memberikan tanda silang pada salah satu jawaban benar!

1. Apa nama bangun datar yang memiliki satu sisi miring dan salah satu sudutnya berbentuk siku-siku?

☒ a. Segitiga siku-siku b. Persegi c. Lingkaran

2.



Toni mempunyai mainan berbentuk segitiga. Ketiga sisi mainan sama panjang. Ketiga pojoknya sama besar. Berbentuk bangun apakah mainan Toni tersebut?

☐ a. Persegi panjang b. Layang-layang ☒ c. Segitiga sama sisi

3.



Nila membuat sapu tangan. Panjang masing-masing sisinya 20 cm. Keempat pojoknya siku-siku. Berbentuk bangun apakah sapu tangan yang dibuat Nila?

☒ a. Persegi b. Segitiga siku-siku c. Persegi panjang



4. Pak Arifin berkunjung ke Candi Dermo pada hari Minggu. Saat memasuki wilayah candi, Pak Arifin melihat ada sebuah taman berbentuk segiempat di depan Candi. Taman tersebut memiliki 2 pasang sisi yang berhadapan sama panjang dan sejajar serta memiliki 4 sudut siku-siku. Berbentuk bangun apakah taman yang dilihat Pak Arifin?

☒ a. Persegi panjang b. Lingkaran c. Jajar genjang

5.



Ibu mempunyai kue berbentuk segitiga. Kedua sisi kue itu sama panjang. Kedua pojoknya sama besar. Berbentuk apakah kue ibu tersebut?

☒ a. Segitiga sama kaki b. Persegi panjang c. Segitiga siku-siku

II. Jawablah pertanyaan di bawah ini dengan cara mengisi titik-titik dengan jawaban yang benar!



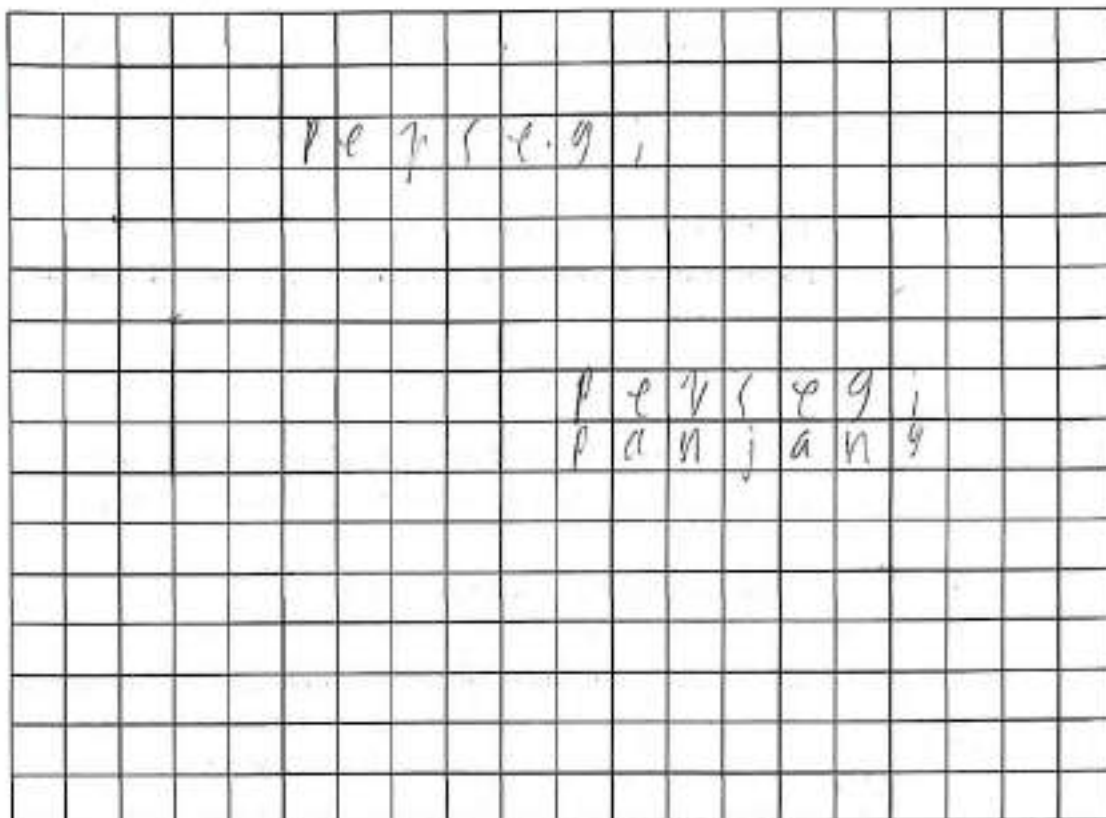
6. Arya dan Doni adalah pesilat hebat. Setiap berlatih silat, mereka selalu menggunakan seragam hitam, dan topi di kepala. Bentuk bangun datar yang ada pada topi Arya dan Doni adalah lingkaran.



7. Gambar di samping adalah gambar anak tangga yang ada di Candi Dermo, bentuk bangun datar apa yang kamu temukan pada gambar anak tangga disamping? persegi panjang 5

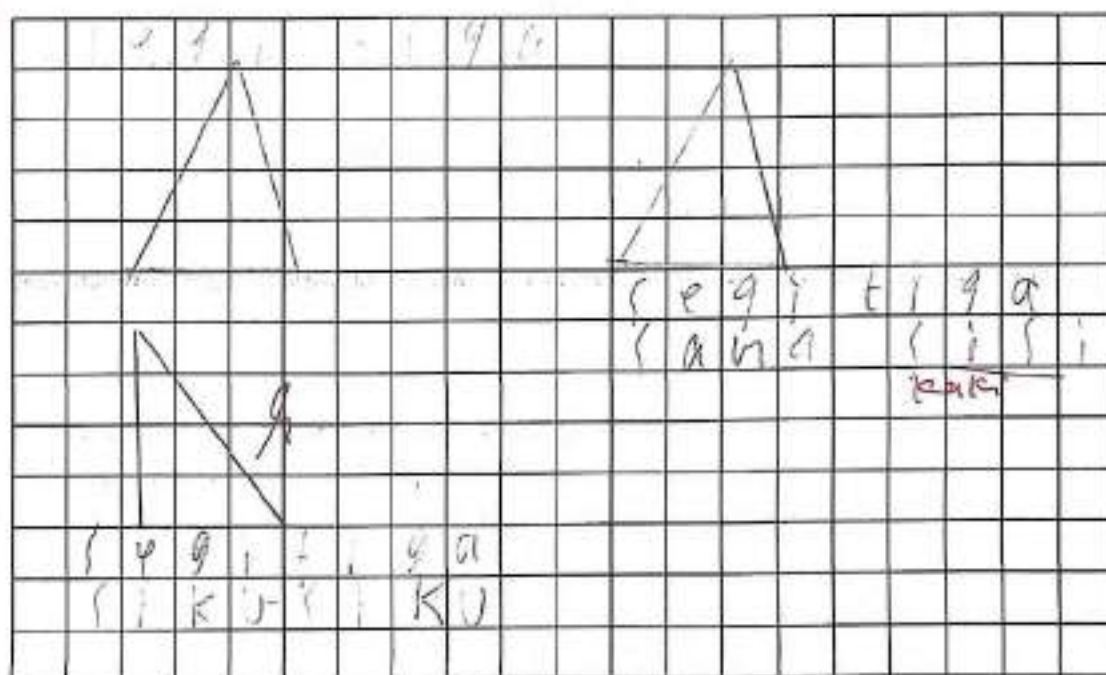
8. Gambarlah ~~dua~~ bangun persegi dan ~~dua~~ bangun persegi panjang yang ukurannya berbeda, kemudian berikan keterangan nama bangun datar apa yang sudah kamu buat!

17



9. Gambarlah tiga macam segitiga yang kamu ketahui, kemudian berikan keterangan nama bangun datar apa yang sudah kamu buat!

6



10. Perhatikan gambar di bawah ini!



Lemari



Jendela



Pintu



Penggaris segitiga



Hanger (gantungan baju)



Jam dinding



Plafon eternit atap



Buku



Meja

Kumpulkan benda-benda di atas sesuai dengan sifat yang dimilikinya!

a. Nama benda yang memiliki 4 sisi yang sama panjang dan memiliki 4 sudut siku-siku

Pintu, lemari, jendela, buku, meja

x

x

x

x

x

b. Nama benda yang mempunyai 3 sisi dan 3 titik sudut.

Penggaris segitiga, hanger

17

c. Nama benda yang memiliki 2 pasang sisi yang berhadapan sama panjang dan sejajar

Plafon, eternit, meja

PRETEST

Nama : Zhafira Firdaus (Fira)

Kelas : 3

59,8

I. Jawablah pertanyaan di bawah ini dengan cara memberikan tanda silang pada salah satu jawaban benar!

1. Apa nama bangun datar yang memiliki satu sisi miring dan salah satu sudutnya berbentuk siku-siku?

- ☒ a. Segitiga siku-siku b. Persegi c. Lingkaran

2.



Toni mempunyai mainan berbentuk segitiga. Ketiga sisi mainan sama panjang. Ketiga pojoknya sama besar. Berbentuk bangun apakah mainan Toni tersebut?

- a. Persegi panjang b. Layang-layang ☒ c. Segitiga sama sisi

3.



Nila membuat sapu tangan. Panjang masing-masing sisinya 20 cm. Keempat pojoknya siku-siku. Berbentuk bangun apakah sapu tangan yang dibuat Nila?

- ☒ a. Persegi b. Segitiga siku-siku c. Persegi panjang



4. Pak Arifin berkunjung ke Candi Dermo pada hari Minggu. Saat memasuki wilayah candi, Pak Arifin melihat ada sebuah taman berbentuk segiempat di depan Candi. Taman tersebut memiliki 2 pasang sisi yang berhadapan sama panjang dan sejajar serta memiliki 4 sudut siku-siku. Berbentuk bangun apakah taman yang dilihat Pak Arifin?

- ☒ a. Persegi panjang b. Lingkaran c. Jajar genjang

5.



Ibu mempunyai kue berbentuk segitiga. Kedua sisi kue itu sama panjang. Kedua pojoknya sama besar. Berbentuk apakah kue ibu tersebut?

- a. Segitiga sama kaki b. Persegi panjang ☒ c. Segitiga siku-siku

II. Jawablah pertanyaan di bawah ini dengan cara mengisi titik-titik dengan jawaban yang benar!



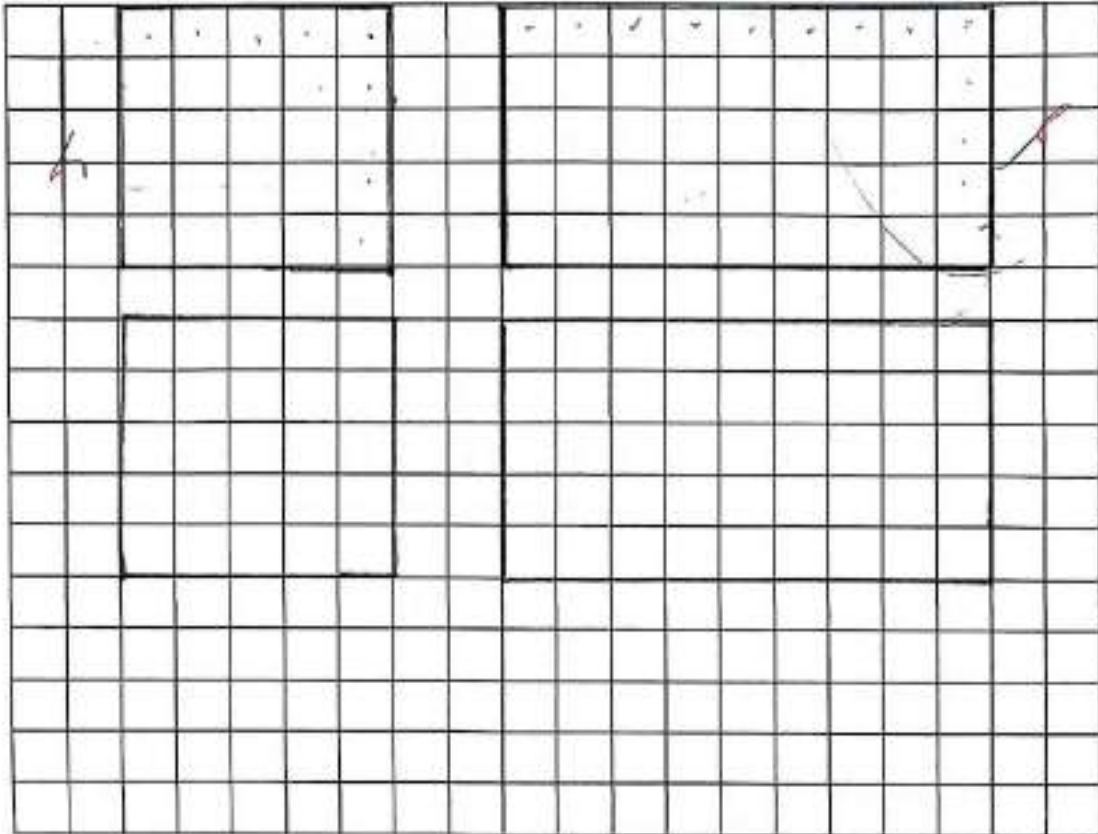
6. Arya dan Doni adalah pesilat hebat. Setiap berlatih silat, mereka selalu menggunakan seragam hitam, dan topi di kepala. Bentuk bangun datar yang ada pada topi Arya dan Doni adalah Segitiga.



7. Gambar di samping adalah gambar anak tangga yang ada di Candi Dermo, bentuk bangun datar apa yang kamu temukan pada gambar anak tangga disamping? *Persegi... panjang 5*

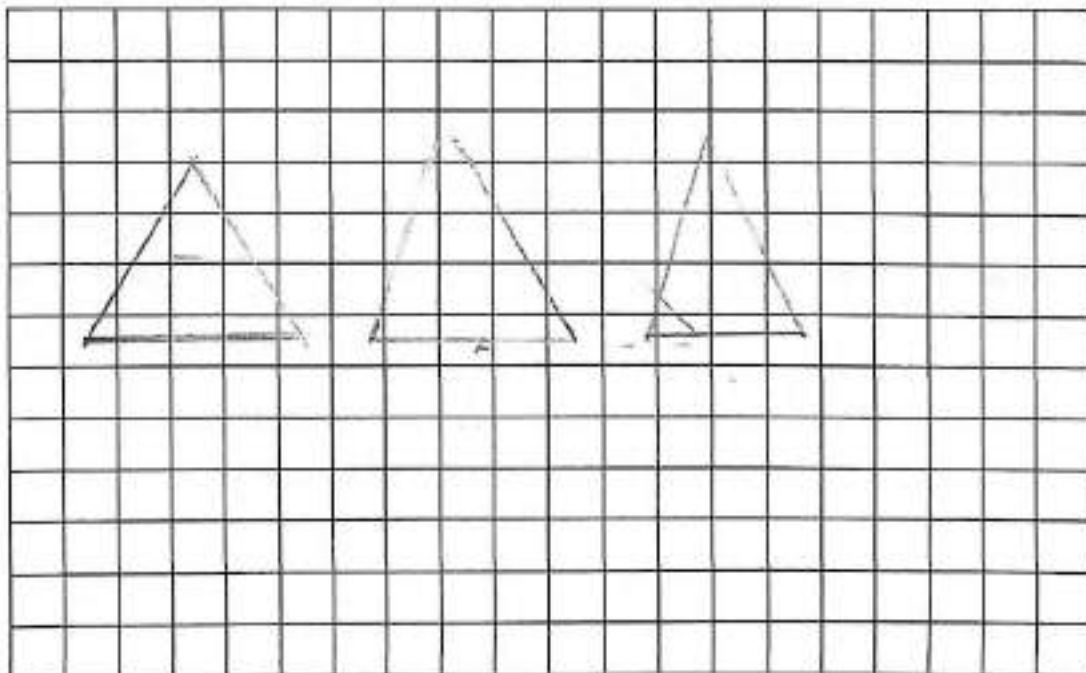
8. Gambarlah ~~dua~~ bangun persegi dan ~~dua~~ bangun persegi panjang yang ukurannya berbeda, kemudian berikan keterangan nama bangun datar apa yang sudah kamu buat!

VI



9. Gambarlah tiga macam segitiga yang kamu ketahui, kemudian berikan keterangan nama bangun datar apa yang sudah kamu buat!

3



10. Perhatikan gambar di bawah ini!



Lemari



Jendela



Pintu



Penggaris segitiga



Hanger (gantungan baju)



Jam dinding



Plafon eternit atap



Buku



Meja

Kumpulkan benda-benda di atas sesuai dengan sifat yang dimilikinya!

- a. Nama benda yang memiliki 4 sisi yang sama panjang dan memiliki 4 sudut siku-siku

17 Jam, Meja, Plafon, Pintu, buku, lemari dan jendela

- b. Nama benda yang mempunyai 3 sisi dan 3 titik sudut.

8.5 Penggaris segitiga

- c. Nama benda yang memiliki 2 pasang sisi yang berhadapan sama panjang dan sejajar

hanger / gantungan baju

PRETEST

Nama : Ahmad R. m d k a n i

Kelas : 3

26,5

I. Jawablah pertanyaan di bawah ini dengan cara memberikan tanda silang pada salah satu jawaban benar!

1. Apa nama bangun datar yang memiliki satu sisi miring dan salah satu sudutnya berbentuk siku-siku?

☒ a. Segitiga siku-siku

b. Persegi

c. Lingkaran

2.



Toni mempunyai mainan berbentuk segitiga. Ketiga sisi mainan sama panjang. Ketiga pojoknya sama besar. Berbentuk bangun apakah mainan Toni tersebut?

a. Persegi panjang

b. Layang-layang

☒ c. Segitiga sama sisi

3.



Nila membuat sapu tangan. Panjang masing-masing sisinya 20 cm.

Keempat pojoknya siku-siku. Berbentuk bangun apakah sapu tangan yang dibuat Nila?

☒ a. Persegi

b. Segitiga siku-siku

c. Persegi panjang



4. Pak Arifin berkunjung ke Candi Dermio pada hari Minggu. Saat memasuki wilayah candi, Pak Arifin melihat ada sebuah taman berbentuk segiempat di depan Candi. Taman tersebut memiliki 2 pasang sisi yang berhadapan sama panjang dan sejajar serta memiliki 4 sudut siku-siku. Berbentuk bangun apakah taman yang dilihat Pak Arifin?

☒ a. Persegi panjang

b. Lingkaran

c. Jajar genjang

5.



Ibu mempunyai kue berbentuk segitiga. Kedua sisi kue itu sama panjang. Kedua pojoknya sama besar. Berbeautuk apakah kue ibu tersebut?

a. Segitiga sama kaki

b. Persegi panjang

c. Segitiga siku-siku

II. Jawablah pertanyaan di bawah ini dengan cara mengisi titik-titik dengan jawaban yang benar!



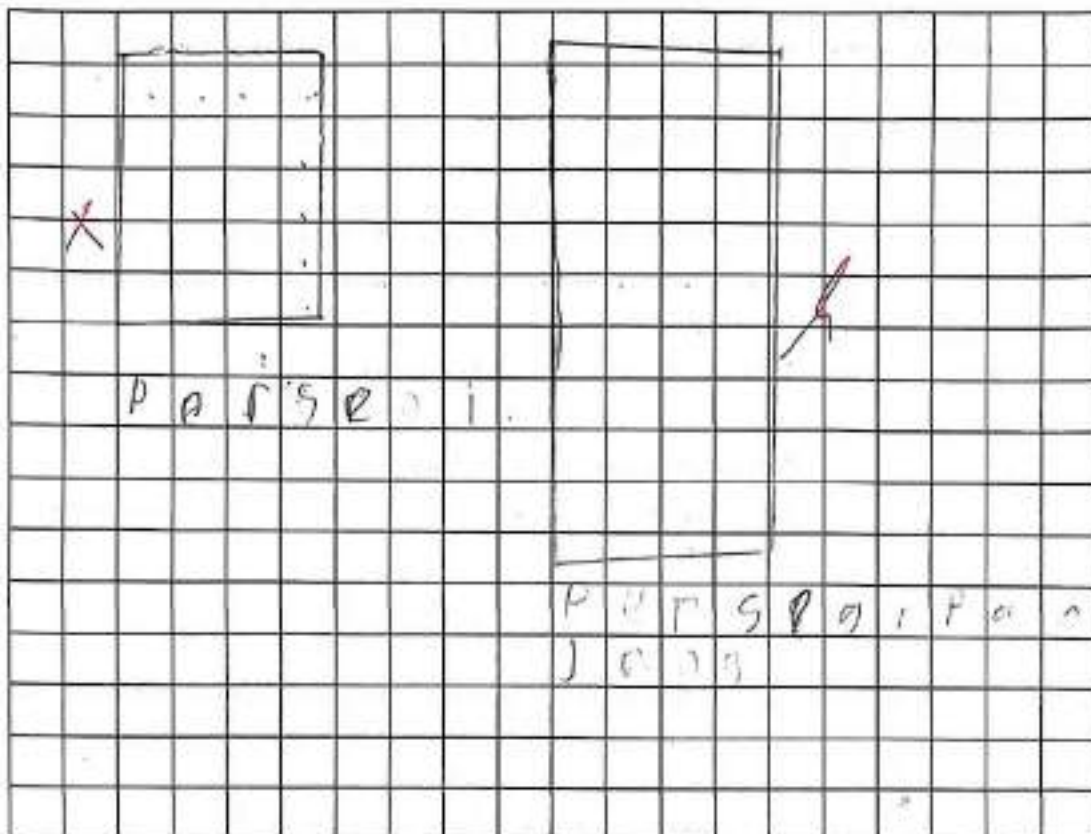
6. Arya dan Doni adalah pesilat hebat. Setiap berlatih silat, mereka selalu menggunakan seragam hitam, dan topi di kepala. Bentuk bangun datar yang ada pada topi Arya dan Doni adalah... Segitiga 5



7. Gambar di samping adalah gambar anak tangga yang ada di Candi Dermo, bentuk bangun datar apa yang kamu temukan pada gambar anak tangga disamping? *Persegi Panjang* 5

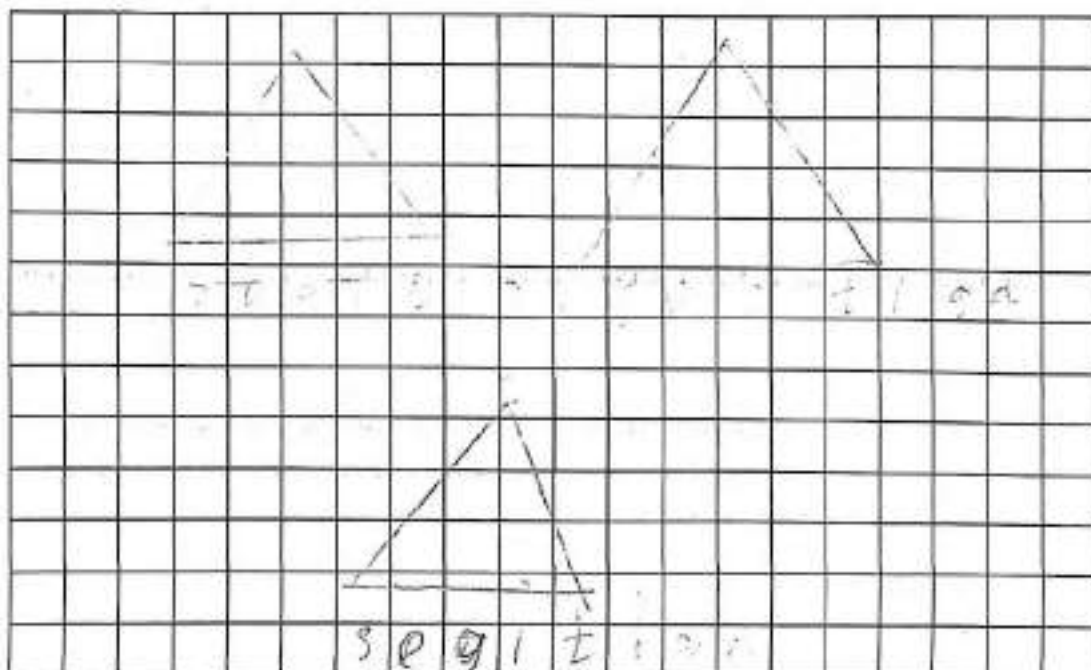
8. Gambarlah ~~dua~~ bangun persegi dan ~~dua~~ bangun persegi panjang yang ukurannya berbeda, kemudian berikan keterangan nama bangun datar apa yang sudah kamu buat!

85



9. Gambarlah tiga macam segitiga yang kamu ketahui, kemudian berikan keterangan nama bangun datar apa yang sudah kamu buat!

3



10. Perhatikan gambar di bawah ini!



Lemari



Jendela



Pintu



Penggaris segitiga



Hanger (gantungan baju)



Jam dinding



Plafon eternit atap



Buku



Meja

Kumpulkan benda-benda di atas sesuai dengan sifat yang dimilikinya!

a. Nama benda yang memiliki 4 sisi yang sama panjang dan memiliki 4 sudut siku-siku
Pintu

b. Nama benda yang mempunyai 3 sisi dan 3 titik sudut.
Segitiga

c. Nama benda yang memiliki 2 pasang sisi yang berhadapan sama panjang dan sejajar
Plafon eternit atap

PRETEST

Nama : Livia Maulidah Fadila


Kelas : 3 III

60,5


I. Jawablah pertanyaan di bawah ini dengan cara memberikan tanda silang pada salah satu jawaban benar!

1. Apa nama bangun datar yang memiliki satu sisi miring dan salah satu sudutnya berbentuk siku-siku?

- ☒ a. Segitiga siku-siku b. Persegi c. Lingkaran

2.  Toni mempunyai mainan berbentuk segitiga. Ketiga sisi mainan sama panjang. Ketiga pojoknya sama besar. Berbentuk bangun apakah mainan Toni tersebut?

- a. Persegi panjang b. Layang-layang ☒ c. Segitiga sama sisi


3.  Nila membuat sapu tangan. Panjang masing-masing sisinya 20 cm. Keempat pojoknya siku-siku. Berbentuk bangun apakah sapu tangan yang dibuat Nila?

- ☒ a. Persegi b. Segitiga siku-siku c. Persegi panjang



4. Pak Arifin berkunjung ke Candi Dermo pada hari Minggu. Saat memasuki wilayah candi, Pak Arifin melihat ada sebuah taman berbentuk segiempat di depan Candi. Taman tersebut memiliki 2 pasang sisi yang berhadapan sama panjang dan sejajar serta memiliki 4 sudut siku-siku. Berbentuk bangun apakah taman yang dilihat Pak Arifin?

- ☒ a. Persegi panjang b. Lingkaran c. Jajar genjang

5.  Ibu mempunyai kue berbentuk segitiga. Kedua sisi kue itu sama panjang. Kedua pojoknya sama besar. Berbentuk apakah kue ibu tersebut?

- ☒ a. Segitiga sama kaki b. Persegi panjang c. Segitiga siku-siku

II. Jawablah pertanyaan di bawah ini dengan cara mengisi titik-titik dengan jawaban yang benar!




6. Arya dan Doni adalah pesilat hebat. Setiap berlatih silat, mereka selalu menggunakan seragam hitam, dan topi di kepala. Bentuk bangun datar yang ada pada topi Arya dan Doni adalah Segitiga



7. Gambar di samping adalah gambar anak tangga yang ada di Candi Dermo, bentuk bangun datar apa yang kamu temukan pada gambar anak tangga disamping? Persegi, Panjang 5

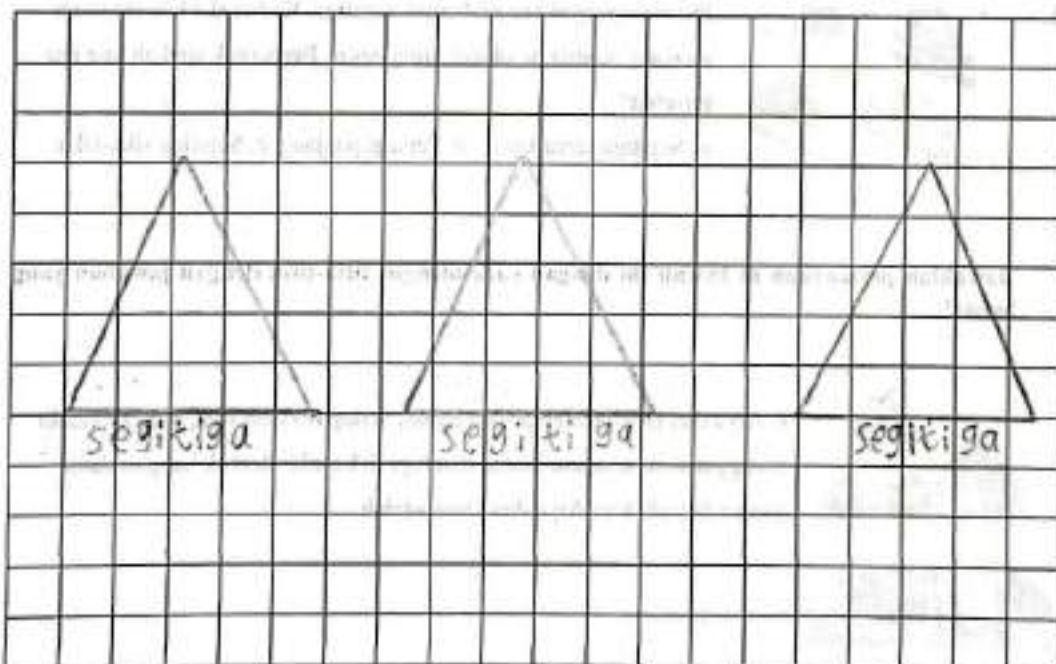
8. Gambarlah ~~dua~~ bangun persegi dan ~~dua~~ bangun persegi panjang yang ukurannya berbeda, kemudian berikan keterangan nama bangun datar apa yang sudah kamu buat!

17



9. Gambarlah tiga macam segitiga yang kamu ketahui, kemudian berikan keterangan nama bangun datar apa yang sudah kamu buat!

3



10. Perhatikan gambar di bawah ini!



Lemari



Jendela



Pintu



Penggaris segitiga



Hanger (gantungan baju)



Jam dinding



Plafon eternit atap



Buku



Meja

Kumpulkan benda-benda di atas sesuai dengan sifat yang dimilikinya!

- a. Nama benda yang memiliki 4 sisi yang sama panjang dan memiliki 4 sudut siku-siku
 17 Jam, lemari, meja, buku, Plafon, Pintu, Jendela

- b. Nama benda yang mempunyai 3 sisi dan 3 titik sudut.
 8.5 Penggaris segitiga

- c. Nama benda yang memiliki 2 pasang sisi yang berhadapan sama panjang dan sejajar
 9.5 Gantungan baju

PRETEST

Nama: Rusya Arkiana Putama

Kelas: 3

54,5

I. Jawablah pertanyaan di bawah ini dengan cara memberikan tanda silang pada salah satu jawaban benar!

1. Apa nama bangun datar yang memiliki satu sisi miring dan salah satu sudutnya berbentuk siku-siku?

- ☒ a. Segitiga siku-siku b. Persegi c. Lingkaran

2.



Toni mempunyai mainan berbentuk segitiga. Ketiga sisi mainan sama panjang. Ketiga pojoknya sama besar. Berbentuk bangun apakah mainan Toni tersebut?

- ☐ a. Persegi panjang b. Layang-layang ☒ c. Segitiga sama sisi

3.



Nila membuat sapu tangan. Panjang masing-masing sisinya 20 cm. Keempat pojoknya siku-siku. Berbentuk bangun apakah sapu tangan yang dibuat Nila?

- ☒ a. Persegi b. Segitiga siku-siku c. Persegi panjang



4. Pak Arifin berkunjung ke Candi Dermo pada hari Minggu. Saat memasuki wilayah candi, Pak Arifin melihat ada sebuah taman berbentuk segiempat di depan Candi. Taman tersebut memiliki 2 pasang sisi yang berhadapan sama panjang dan sejajar serta memiliki 4 sudut siku-siku. Berbentuk bangun apakah taman yang dilihat Pak Arifin?

- ☒ a. Persegi panjang b. Lingkaran c. Jajar genjang

5.



Ibu mempunyai kue berbentuk segitiga. Kedua sisi kue itu sama panjang. Kedua pojoknya sama besar. Berbentuk apakah kue ibu tersebut?

- ☒ a. Segitiga sama kaki b. Persegi panjang c. Segitiga siku-siku

II. Jawablah pertanyaan di bawah ini dengan cara mengisi titik-titik dengan jawaban yang benar!

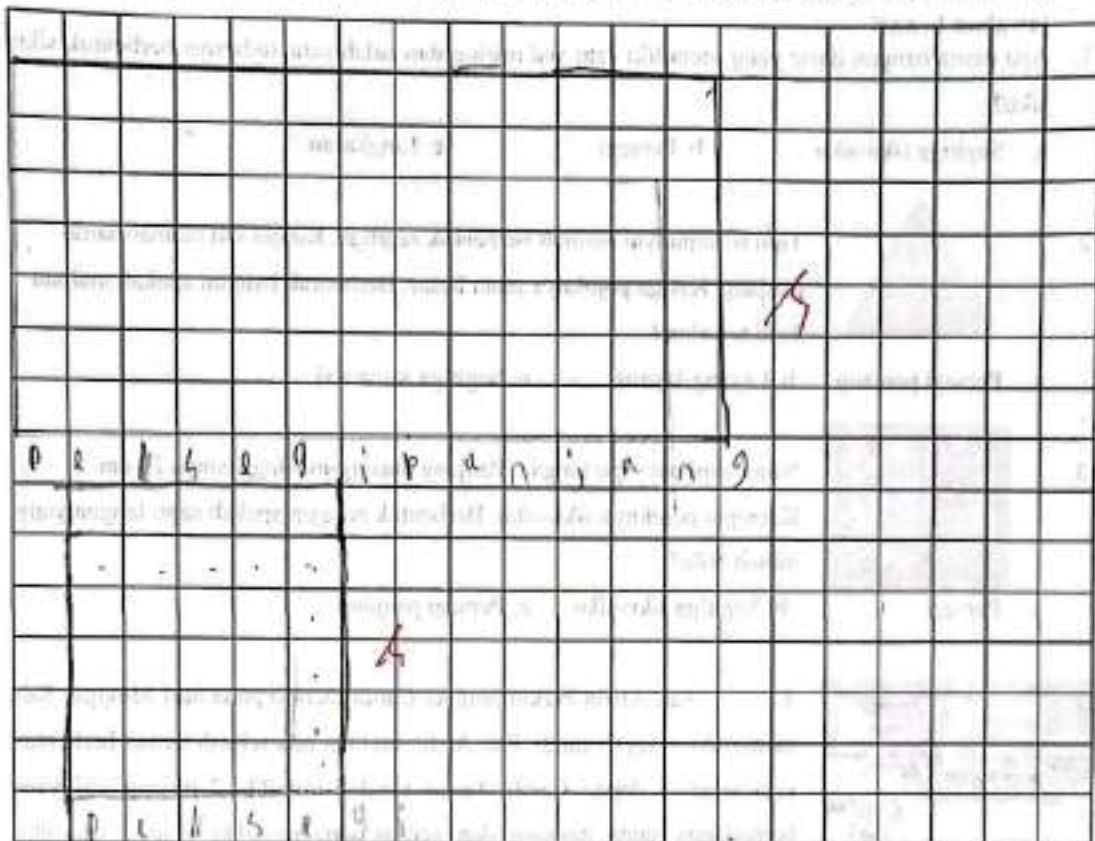


6. Arya dan Doni adalah pesilat hebat. Setiap berlatih silat, mereka selalu menggunakan seragam hitam, dan topi di kepala. Bentuk bangun datar yang ada pada topi Arya dan Doni adalah Segitiga 5

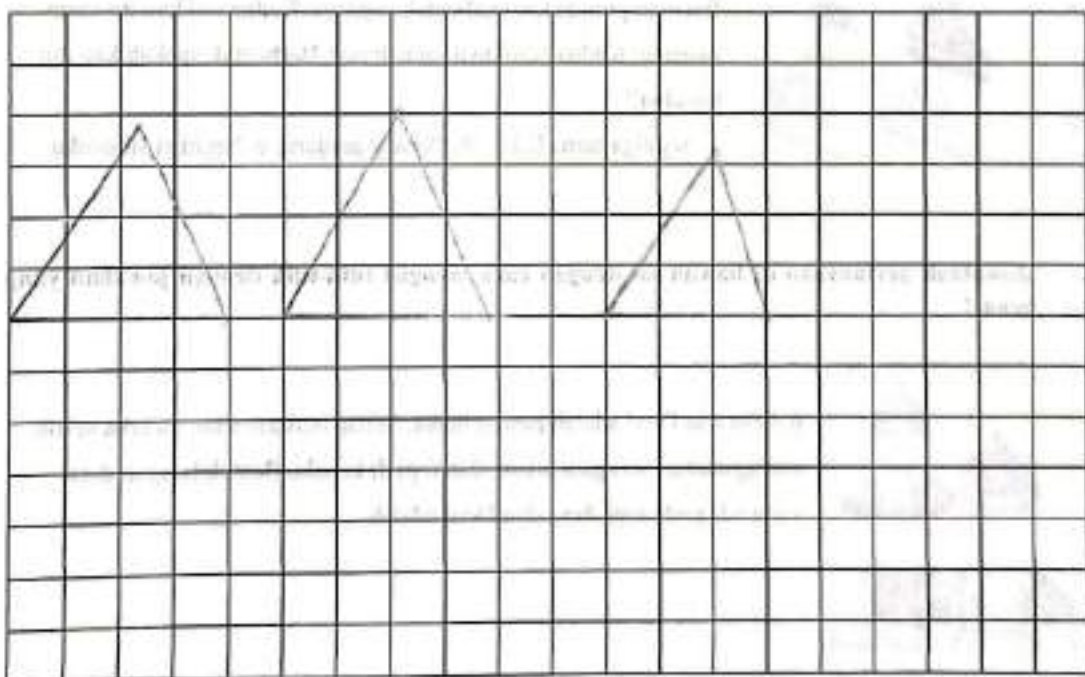


7. Gambar di samping adalah gambar anak tangga yang ada di Candi Dermó, bentuk bangun datar apa yang kamu temukan pada gambar anak tangga disamping? *Persegi, Persegi panjang* 5

8. Gambarlah ~~dua~~ bangun persegi dan ~~dua~~ bangun persegi panjang yang ukurannya berbeda, kemudian berikan keterangan nama bangun datar apa yang sudah kamu buat!



9. Gambarlah tiga macam segitiga yang kamu ketahui, kemudian berikan keterangan nama bangun datar apa yang sudah kamu buat!



10. Perhatikan gambar di bawah ini!



Lemari



Jendela



Pintu



Penggaris segitiga



Hangar (gantungan baju)



Jam dinding



Plafon eternit atap



Buku



Meja

Kumpulkan benda-benda di atas sesuai dengan sifat yang dimilikinya!

- a. Nama benda yang memiliki 4 sisi yang sama panjang dan memiliki 4 sudut siku-siku

Plafon eternit atap ✓

8,5

- b. Nama benda yang mempunyai 3 sisi dan 3 titik sudut.

Penggaris segitiga ✓

8,5

- c. Nama benda yang memiliki 2 pasang sisi yang berhadapan sama panjang dan sejajar

Plafon eternit atap

Pintu ✓

5,5

PRETEST

Nama : Muhamad Lu t h F i


46

Kelas : 3


I. Jawablah pertanyaan di bawah ini dengan cara memberikan tanda silang pada salah satu jawaban benar!

1. Apa nama bangun datar yang memiliki satu sisi miring dan salah satu sudutnya berbentuk siku-siku?

- ☒ a. Segitiga siku-siku b. Persegi c. Lingkaran

2.  Toni mempunyai mainan berbentuk segitiga. Ketiga sisi mainan sama panjang. Ketiga pojoknya sama besar. Berbentuk bangun apakah mainan Toni tersebut?

- a. Persegi panjang b. Layang-layang ☒ c. Segitiga sama sisi

3.  Nila membuat sapu tangan. Panjang masing-masing sisinya 20 cm. Keempat pojoknya siku-siku. Berbentuk bangun apakah sapu tangan yang dibuat Nila?

- ☒ a. Persegi b. Segitiga siku-siku c. Persegi panjang



4. Pak Arifin berkunjung ke Candi Dermo pada hari Minggu. Saat memasuki wilayah candi, Pak Arifin melihat ada sebuah taman berbentuk segiempat di depan Candi. Taman tersebut memiliki 2 pasang sisi yang berhadapan sama panjang dan sejajar serta memiliki 4 sudut siku-siku. Berbentuk bangun apakah taman yang dilihat Pak Arifin?

- ☒ a. Persegi panjang b. Lingkaran c. Jajar genjang



Ibu mempunyai kue berbentuk segitiga. Kedua sisi kue itu sama panjang. Kedua pojoknya sama besar. Berbentuk apakah kue ibu tersebut?

- ☒ a. Segitiga sama kaki b. Persegi panjang ☒ c. Segitiga siku-siku

II. Jawablah pertanyaan di bawah ini dengan cara mengisi titik-titik dengan jawaban yang benar!



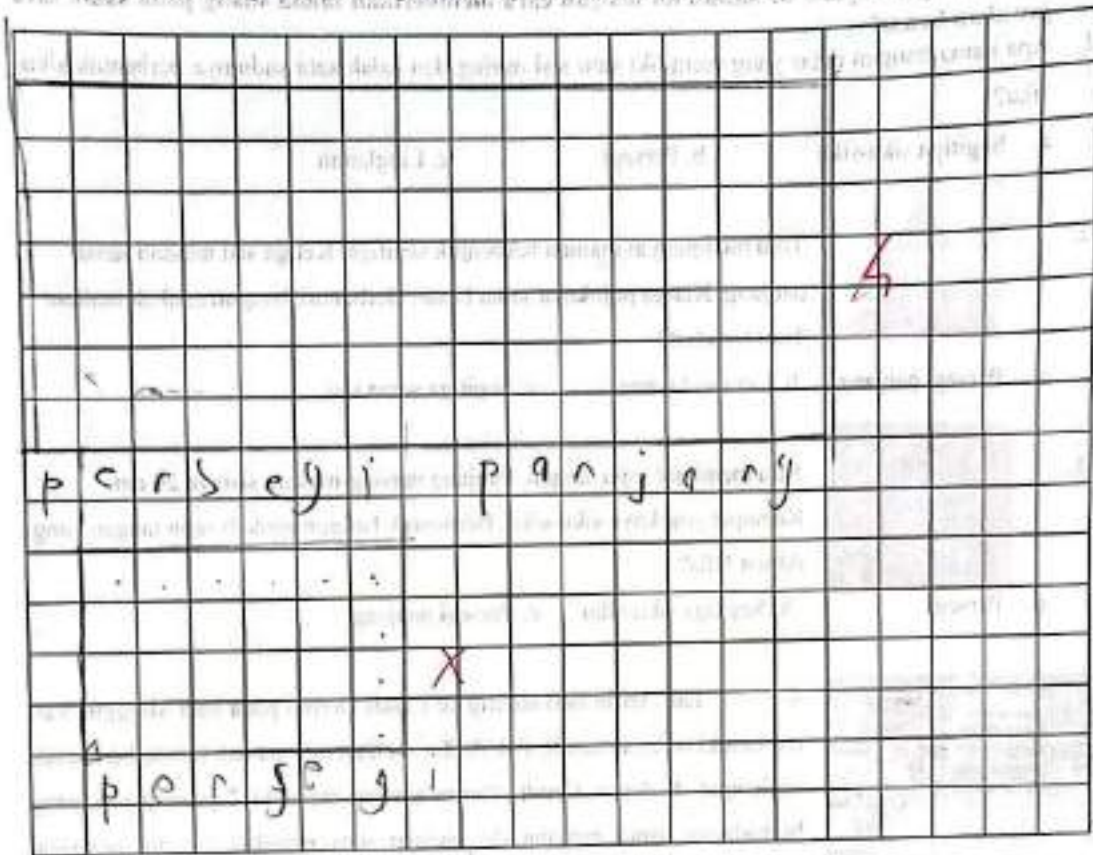
6. Arya dan Doni adalah pesilat hebat. Setiap berlatih silat, mereka selalu menggunakan seragam hitam, dan topi di kepala. Bentuk bangun datar yang ada pada topi Arya dan Doni adalah.... Segitiga sama kaki



7. Gambar di samping adalah gambar anak tangga yang ada di Candi Dermo, bentuk bangun datar apa yang kamu temukan pada gambar anak tangga disamping? *persegi panjang*

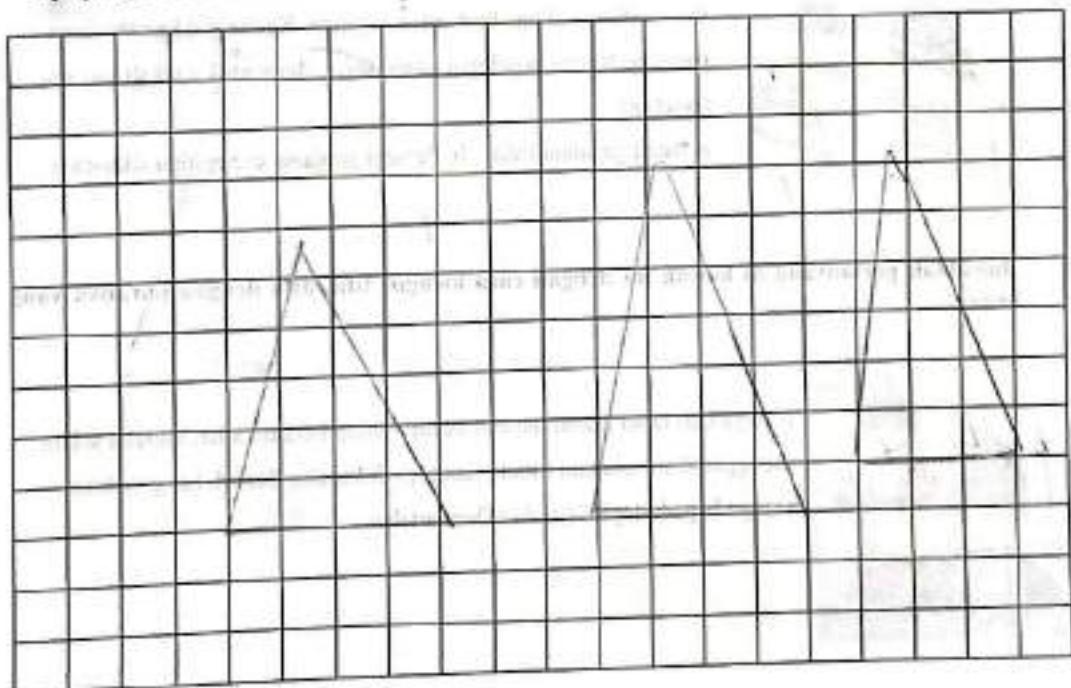
8. Gambarlah ~~dan~~ bangun persegi dan ~~dan~~ bangun persegi panjang yang ukurannya berbeda, kemudian berikan keterangan nama bangun datar apa yang sudah kamu buat!

8.5



9. Gambarlah tiga macam segitiga yang kamu ketahui, kemudian berikan keterangan nama bangun datar apa yang sudah kamu buat!

3



10. Perhatikan gambar di bawah ini!



Lemari



Jendela



Pintu



Penggaris segitiga



Hanger (gantungan baju)



Jam dinding



Plafon eternit atap



Buku



Meja

Kumpulkan benda-benda di atas sesuai dengan sifat yang dimilikinya!

- a. Nama benda yang memiliki 4 sisi yang sama panjang dan memiliki 4 sudut siku-siku

plafon eternit atap

6,5

- b. Nama benda yang mempunyai 3 sisi dan 3 titik sudut.

penggaris segitiga

8,5

- c. Nama benda yang memiliki 2 pasang sisi yang berhadapan sama panjang dan sejajar

plafon eternit atap & pintu

9,5

PRETEST

Nama : Kalea

Kelas : III

37,5

I. Jawablah pertanyaan di bawah ini dengan cara memberikan tanda silang pada salah satu jawaban benar!

1. Apa nama bangun datar yang memiliki satu sisi miring dan salah satu sudutnya berbentuk siku-siku?

☒ a. Segitiga siku-siku b. Persegi c. Lingkaran

2.



Toni mempunyai mainan berbentuk segitiga. Ketiga sisi mainan sama panjang. Ketiga pojoknya sama besar. Berbentuk bangun apakah mainan Toni tersebut?

☐ a. Persegi panjang b. Layang-layang ☒ c. Segitiga sama sisi

3.



Nila membuat sapu tangan. Panjang masing-masing sisinya 20 cm. Keempat pojoknya siku-siku. Berbentuk bangun apakah sapu tangan yang dibuat Nila?

☒ a. Persegi b. Segitiga siku-siku c. Persegi panjang



4. Pak Arifin berkunjung ke Candi Dermo pada hari Minggu. Saat memasuki wilayah candi, Pak Arifin melihat ada sebuah taman berbentuk segiempat di depan Candi. Taman tersebut memiliki 2 pasang sisi yang berhadapan sama panjang dan sejajar serta memiliki 4 sudut siku-siku. Berbentuk bangun apakah taman yang dilihat Pak Arifin?

☒ a. Persegi panjang b. Lingkaran c. Jajar genjang




Ibu mempunyai kue berbentuk segitiga. Kedua sisi kue itu sama panjang. Kedua pojoknya sama besar. Berbentuk apakah kue ibu tersebut?

☒ a. Segitiga sama kaki b. Persegi panjang ☒ c. Segitiga siku-siku

II. Jawablah pertanyaan di bawah ini dengan cara mengisi titik-titik dengan jawaban yang benar!



6. Arya dan Doni adalah pesilat hebat. Setiap berlatih silat, mereka selalu menggunakan seragam hitam, dan topi di kepala. Bentuk bangun datar yang ada pada topi Arya dan Doni adalah Segitiga



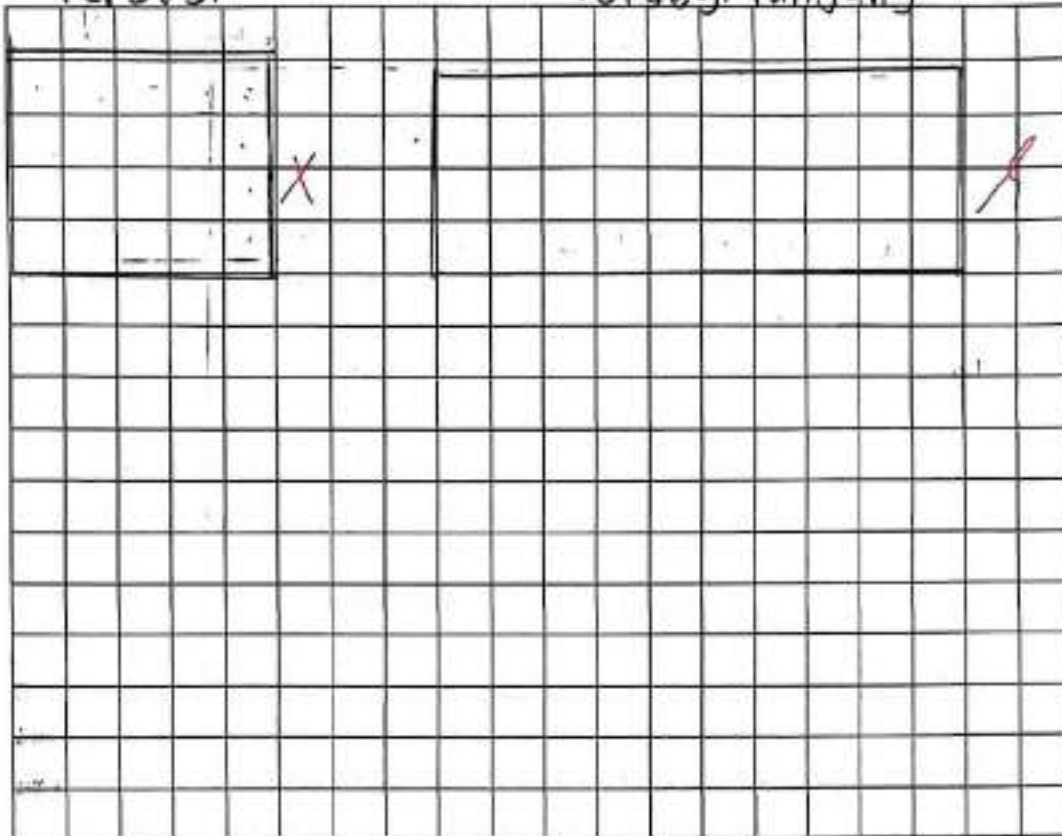


7. Gambar di samping adalah gambar anak tangga yang ada di Candi Dermo, bentuk bangun datar apa yang kamu temukan pada gambar anak tangga disamping? *Persegi Panjang 5*

8. Gambarkan ~~dan~~ bangun persegi dan ~~dan~~ bangun persegi panjang yang ukurannya berbeda, kemudian berikan keterangan nama bangun datar apa yang sudah kamu buat!

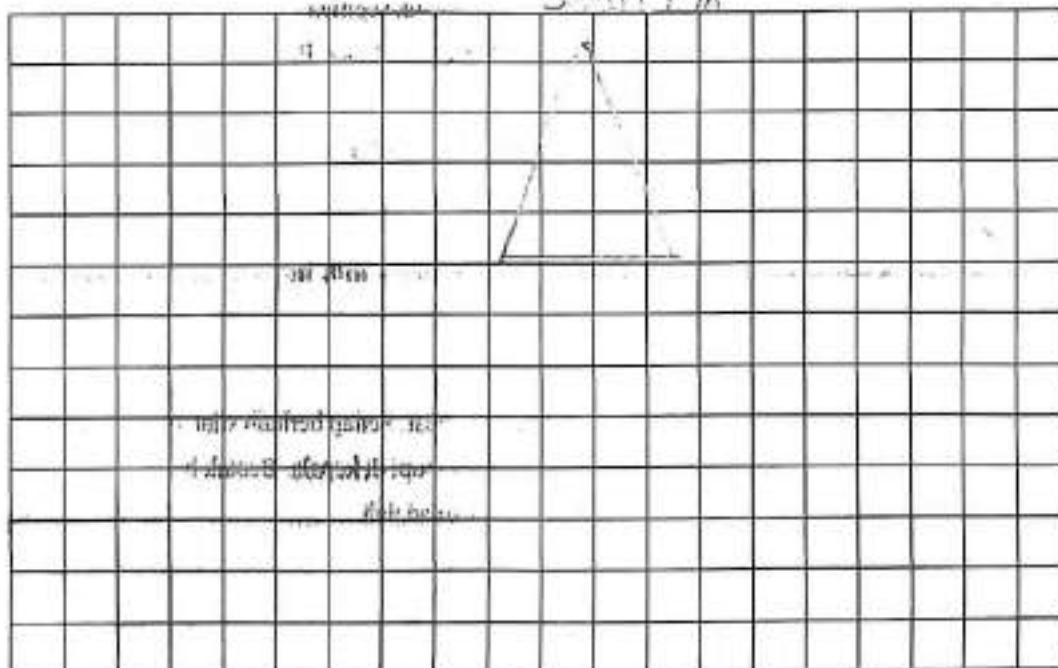
Persegi

Persegi Panjang



9. Gambarkan tiga macam segitiga yang kamu ketahui, kemudian berikan keterangan nama bangun datar apa yang sudah kamu buat!

Segitiga



10. Perhatikan gambar di bawah ini!



Lemari



Jendela



Pintu



Penggaris segitiga



Hanger (gantungan baju)



Jam dinding



Plafon eternit atap



Buku



Meja

Kumpulkan benda-benda di atas sesuai dengan sifat yang dimilikinya!

a. Nama benda yang memiliki 4 sisi yang sama panjang dan memiliki 4 sudut siku-siku

lemari x

b. Nama benda yang mempunyai 3 sisi dan 3 titik sudut.

Penggaris segitiga

c. Nama benda yang memiliki 2 pasang sisi yang berhadapan sama panjang dan sejajar

Pintu ✓

PRETEST

Nama : Axel

Kelas : 3 / III

39

I. Jawablah pertanyaan di bawah ini dengan cara memberikan tanda silang pada salah satu jawaban benar!

1. Apa nama bangun datar yang memiliki satu sisi miring dan salah satu sudutnya berbentuk siku-siku?

☒ a. Segitiga siku-siku b. Persegi c. Lingkaran

2.



Toni mempunyai mainan berbentuk segitiga. Ketiga sisi mainan sama panjang. Ketiga pojoknya sama besar. Berbentuk bangun apakah mainan Toni tersebut?

a. Persegi panjang b. Layang-layang ☒ c. Segitiga sama sisi

3.



Nila membuat sapu tangan. Panjang masing-masing sisinya 20 cm. Keempat pojoknya siku-siku. Berbentuk bangun apakah sapu tangan yang dibuat Nila?

☒ a. Persegi b. Segitiga siku-siku c. Persegi panjang



4. Pak Arifin berkunjung ke Candi Dermo pada hari Minggu. Saat memasuki wilayah candi, Pak Arifin melihat ada sebuah taman berbentuk segiempat di depan Candi. Taman tersebut memiliki 2 pasang sisi yang berhadapan sama panjang dan sejajar serta memiliki 4 sudut siku-siku. Berbentuk bangun apakah taman yang dilihat Pak Arifin?

☒ a. Persegi panjang b. Lingkaran c. Jajar genjang

5.



Ibu mempunyai kue berbentuk segitiga. Kedua sisi kue itu sama panjang. Kedua pojoknya sama besar. Berbentuk apakah kue ibu tersebut?

☒ a. Segitiga sama kaki b. Persegi panjang ☒ c. Segitiga siku-siku

II. Jawablah pertanyaan di bawah ini dengan cara mengisi titik-titik dengan jawaban yang benar!




6. Arya dan Doni adalah pesilat hebat. Setiap berlatih silat, mereka selalu menggunakan seragam hitam, dan topi di kepala. Bentuk bangun datar yang ada pada topi Arya dan Doni adalah segiempat 5



7. Gambar di samping adalah gambar anak tangga yang ada di Candi Dermo, bentuk bangun datar apa yang kamu temukan pada gambar anak tangga disamping? *Persegi... Panjang 5*

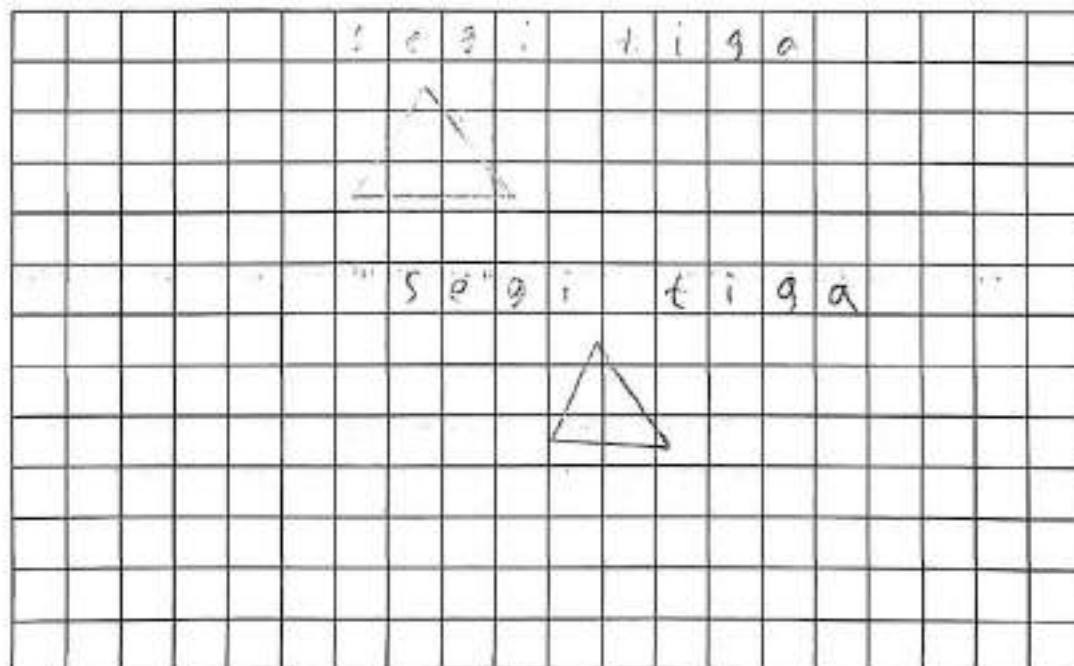
8. Gambarlah ~~dua~~ bangun persegi dan ~~dua~~ bangun persegi panjang yang ukurannya berbeda, kemudian berikan keterangan nama bangun datar apa yang sudah kamu buat!

8/1



9. Gambarlah tiga macam segitiga yang kamu ketahui, kemudian berikan keterangan nama bangun datar apa yang sudah kamu buat!

3



10. Perhatikan gambar di bawah ini!



Lemari



Jendela



Pintu



Penggaris segitiga



Hanger (gantungan baju)



Jam dinding



Plafon eternit atap



Buku



Meja

Kumpulkan benda-benda di atas sesuai dengan sifat yang dimilikinya!

a. Nama benda yang memiliki 4 sisi yang sama panjang dan memiliki 4 sudut siku-siku
meja.....

b. Nama benda yang mempunyai 3 sisi dan 3 titik sudut.

Penggaris segitiga.....

8,5

c. Nama benda yang memiliki 2 pasang sisi yang berhadapan sama panjang dan sejajar

jam dinding.....

PRETEST

Nama : Adelya Faranisa A.

Kelas : 3 < tiga >

67,5

I. Jawablah pertanyaan di bawah ini dengan cara memberikan tanda silang pada salah satu jawaban benar!

1. Apa nama bangun datar yang memiliki satu sisi miring dan salah satu sudutnya berbentuk siku-siku?

☒ a. Segitiga siku-siku b. Persegi c. Lingkaran

2.



Toni mempunyai mainan berbentuk segitiga. Ketiga sisi mainan sama panjang. Ketiga pojoknya sama besar. Berbentuk bangun apakah mainan Toni tersebut?

a. Persegi panjang b. Layang-layang ☒ c. Segitiga sama sisi

3.



Nila membuat sapu tangan. Panjang masing-masing sisinya 20 cm. Keempat pojoknya siku-siku. Berbentuk bangun apakah sapu tangan yang dibuat Nila?

☒ a. Persegi b. Segitiga siku-siku c. Persegi panjang



4. Pak Arifin berkunjung ke Candi Dermo pada hari Minggu. Saat memasuki wilayah candi, Pak Arifin melihat ada sebuah taman berbentuk segiempat di depan Candi. Taman tersebut memiliki 2 pasang sisi yang berhadapan sama panjang dan sejajar serta memiliki 4 sudut siku-siku. Berbentuk bangun apakah taman yang dilihat Pak Arifin?

☒ a. Persegi panjang b. Lingkaran c. Jajar genjang

5.



Ibu mempunyai kue berbentuk segitiga. Kedua sisi kue itu sama panjang. Kedua pojoknya sama besar. Berbentuk apakah kue ibu tersebut?

☒ a. Segitiga sama kaki b. Persegi panjang c. Segitiga siku-siku

II. Jawablah pertanyaan di bawah ini dengan cara mengisi titik-titik dengan jawaban yang benar!



6. Arya dan Doni adalah pesilat hebat. Setiap berlatih silat, mereka selalu menggunakan seragam hitam, dan topi di kepala. Bentuk bangun datar yang ada pada topi Arya dan Doni adalah... segitiga



7. Gambar di samping adalah gambar anak tangga yang ada di Candi Dermo, bentuk bangun datar apa yang kamu temukan pada gambar anak tangga disamping? *Persegi... Panjang 5*

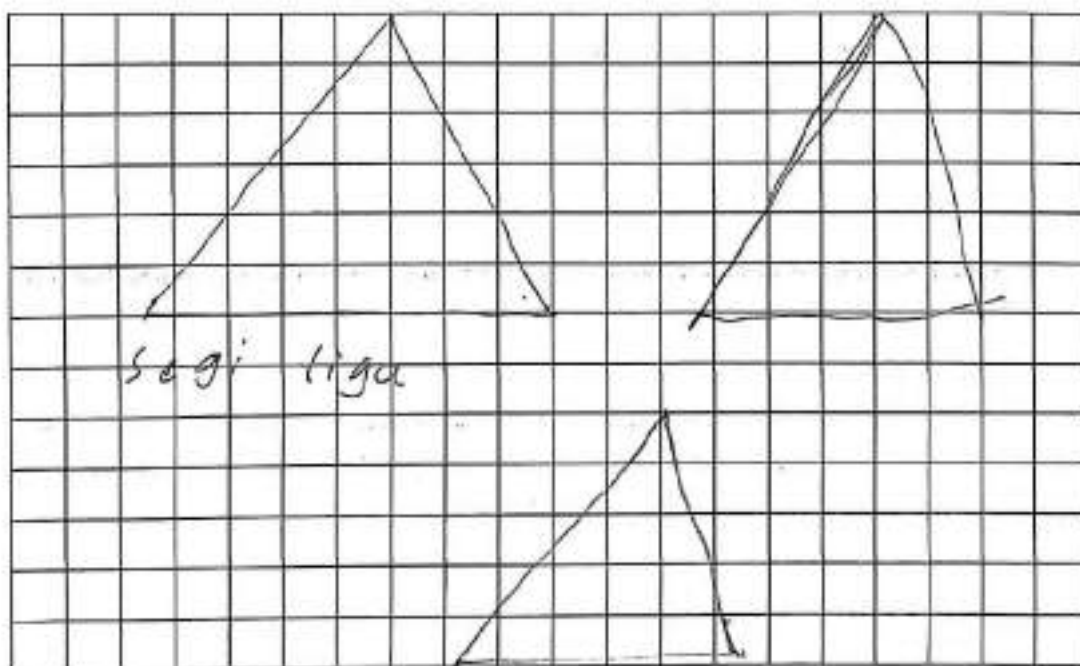
8. Gambarlah dua bangun persegi dan dua bangun persegi panjang yang ukurannya berbeda, kemudian berikan keterangan nama bangun datar apa yang sudah kamu buat!

12



9. Gambarlah tiga macam segitiga yang kamu ketahui, kemudian berikan keterangan nama bangun datar apa yang sudah kamu buat!

3



10. Perhatikan gambar di bawah ini!



Lemari



Jendela



Pintu



Penggaris segitiga



Hanger (gantungan baju)



Jam dinding



Plafon eternit atap



Buku



Meja

Kumpulkan benda-benda di atas sesuai dengan sifat yang dimilikinya!

- a. Nama benda yang memiliki 4 sisi yang sama panjang dan memiliki 4 sudut siku-siku

meja, jam, buku, pintu

8,5

- b. Nama benda yang mempunyai 3 sisi dan 3 titik sudut.

Penggaris segitiga, hanger

17

- c. Nama benda yang memiliki 2 pasang sisi yang berhadapan sama panjang dan sejajar

lemari, jendela

7

PRETEST

Nama : *SYI Fania rahmatun nisa*

Kelas : *3 < tiga >*

69,5

I. Jawablah pertanyaan di bawah ini dengan cara memberikan tanda silang pada salah satu jawaban benar!

1. Apa nama bangun datar yang memiliki satu sisi miring dan salah satu sudutnya berbentuk siku-siku?

☒ a. Segitiga siku-siku b. Persegi c. Lingkaran

2.



Toni mempunyai mainan berbentuk segitiga. Ketiga sisi mainan sama panjang. Ketiga pojoknya sama besar. Berbentuk bangun apakah mainan Toni tersebut?

a. Persegi panjang b. Layang-layang ☒ c. Segitiga sama sisi

3.



Nila membuat sapu tangan. Panjang masing-masing sisinya 20 cm. Keempat pojoknya siku-siku. Berbentuk bangun apakah sapu tangan yang dibuat Nila?

☒ a. Persegi b. Segitiga siku-siku c. Persegi panjang



4. Pak Arifin berkunjung ke Candi Dermo pada hari Minggu. Saat memasuki wilayah candi, Pak Arifin melihat ada sebuah taman berbentuk segiempat di depan Candi. Taman tersebut memiliki 2 pasang sisi yang berhadapan sama panjang dan sejajar serta memiliki 4 sudut siku-siku. Berbentuk bangun apakah taman yang dilihat Pak Arifin?

☒ a. Persegi panjang b. Lingkaran c. Jajar genjang

5.



Ibu mempunyai kue berbentuk segitiga. Kedua sisi kue itu sama panjang. Kedua pojoknya sama besar. Berbentuk apakah kue ibu tersebut?

☒ a. Segitiga sama kaki b. Persegi panjang c. Segitiga siku-siku

II. Jawablah pertanyaan di bawah ini dengan cara mengisi titik-titik dengan jawaban yang benar!

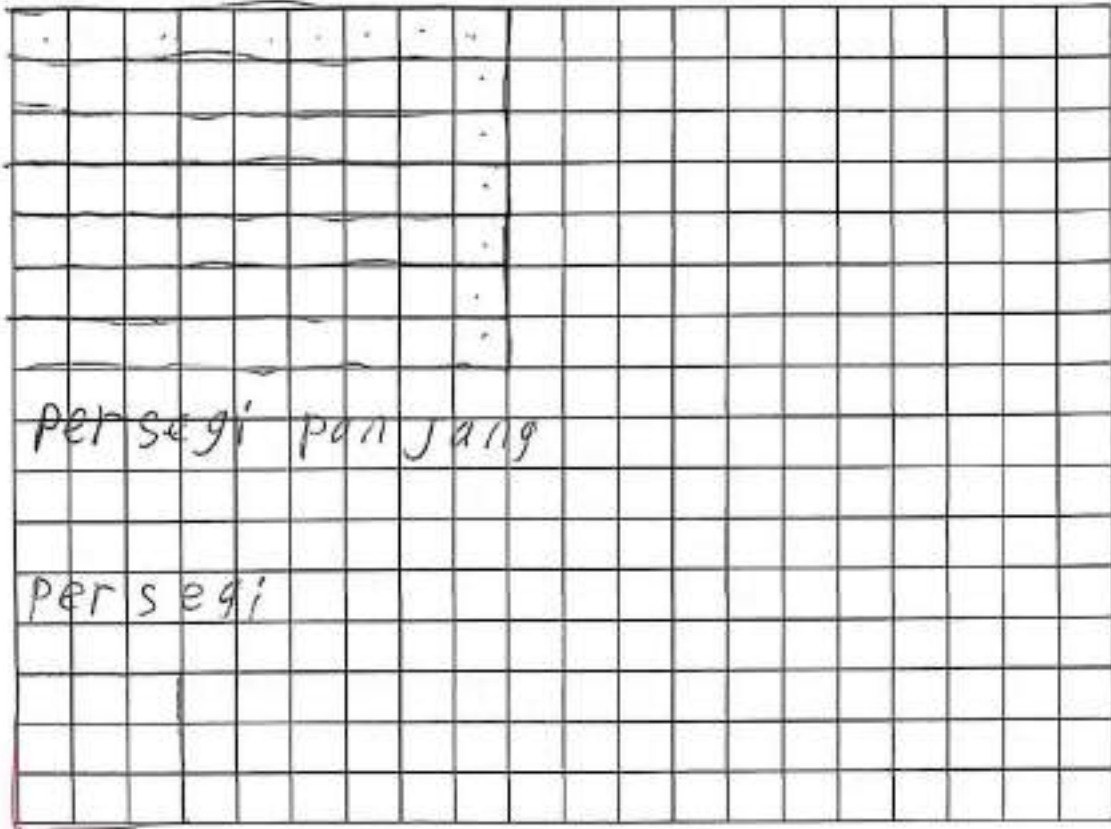


6. Arya dan Doni adalah pesilat hebat. Setiap berlatih silat, mereka selalu menggunakan seragam hitam, dan topi di kepala. Bentuk bangun datar yang ada pada topi Arya dan Doni adalah *Segitiga*



7. Gambar di samping adalah gambar anak tangga yang ada di Candi Dermo, bentuk bangun datar apa yang kamu temukan pada gambar anak tangga disamping? *persegi panjang* 5

8. Gambarkan ~~dan~~ bangun persegi dan ~~dan~~ bangun persegi panjang yang ukurannya berbeda, kemudian berikan keterangan nama bangun datar apa yang sudah kamu buat!



9. Gambarkan tiga macam segitiga yang kamu ketahui, kemudian berikan keterangan nama bangun datar apa yang sudah kamu buat!



10. Perhatikan gambar di bawah ini!



Lemari



Jendela



Pintu



Penggaris segitiga



Hanger (gantungan baju)



Jam dinding



Plafon eternit atap



Buku



Meja

Kumpulkan benda-benda di atas sesuai dengan sifat yang dimilikinya!

- a. Nama benda yang memiliki 4 sisi yang sama panjang dan memiliki 4 sudut siku-siku

Meja, Jam, buku, Plafon

15

- b. Nama benda yang mempunyai 3 sisi dan 3 titik sudut.

Penggaris segitiga, hanger

12

- c. Nama benda yang memiliki 2 pasang sisi yang berhadapan sama panjang dan sejajar

Jendela, Pintu

7

PRETEST

Nama : Rizky HARIZ BARMAWAN
Kelas : C30194

50

I. Jawablah pertanyaan di bawah ini dengan cara memberikan tanda silang pada salah satu jawaban benar!

1. Apa nama bangun datar yang memiliki satu sisi miring dan salah satu sudutnya berbentuk siku-siku?

- ☒ a. Segitiga siku-siku b. Persegi c. Lingkaran

2.



Toni mempunyai mainan berbentuk segitiga. Ketiga sisi mainan sama panjang. Ketiga pojoknya sama besar. Berbentuk bangun apakah mainan Toni tersebut?

- a. Persegi panjang b. Layang-layang ☒ c. Segitiga sama sisi

3.



Nila membuat sapu tangan. Panjang masing-masing sisinya 20 cm. Keempat pojoknya siku-siku. Berbentuk bangun apakah sapu tangan yang dibuat Nila?

- ☒ a. Persegi b. Segitiga siku-siku c. Persegi panjang



4. Pak Arifin berkunjung ke Candi Dermo pada hari Minggu. Saat memasuki wilayah candi, Pak Arifin melihat ada sebuah taman berbentuk segiempat di depan Candi. Taman tersebut memiliki 2 pasang sisi yang berhadapan sama panjang dan sejajar serta memiliki 4 sudut siku-siku. Berbentuk bangun apakah taman yang dilihat Pak Arifin?

- ☒ a. Persegi panjang b. Lingkaran c. Jajar genjang

5.



Ibu mempunyai kue berbentuk segitiga. Kedua sisi kue itu sama panjang. Kedua pojoknya sama besar. Berbentuk apakah kue ibu tersebut?

- ☒ a. Segitiga sama kaki b. Persegi panjang c. Segitiga siku-siku

II. Jawablah pertanyaan di bawah ini dengan cara mengisi titik-titik dengan jawaban yang benar!



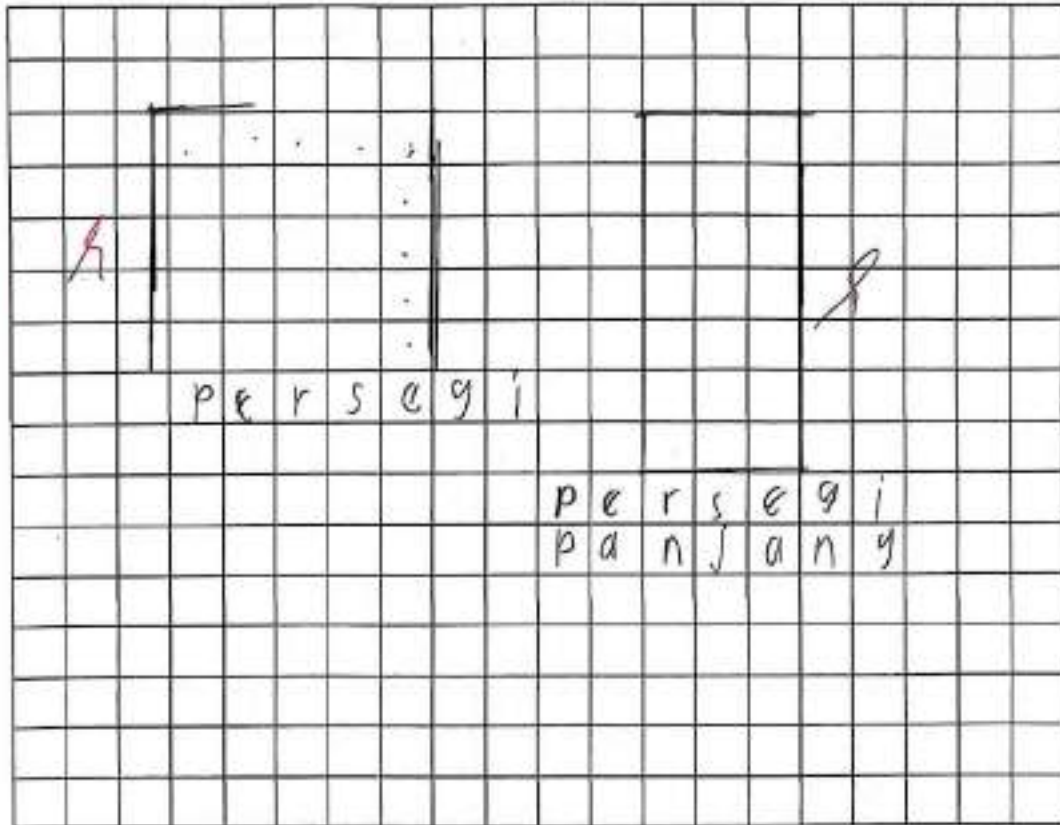
6. Arya dan Doni adalah pesilat hebat. Setiap berlatih silat, mereka selalu menggunakan seragam hitam, dan topi di kepala. Bentuk bangun datar yang ada pada topi Arya dan Doni adalah Segitiga siku-siku 5



7. Gambar di samping adalah gambar anak tangga yang ada di Candi Dermo, bentuk bangun datar apa yang kamu temukan pada gambar anak tangga disamping? *persegi panjang 5*

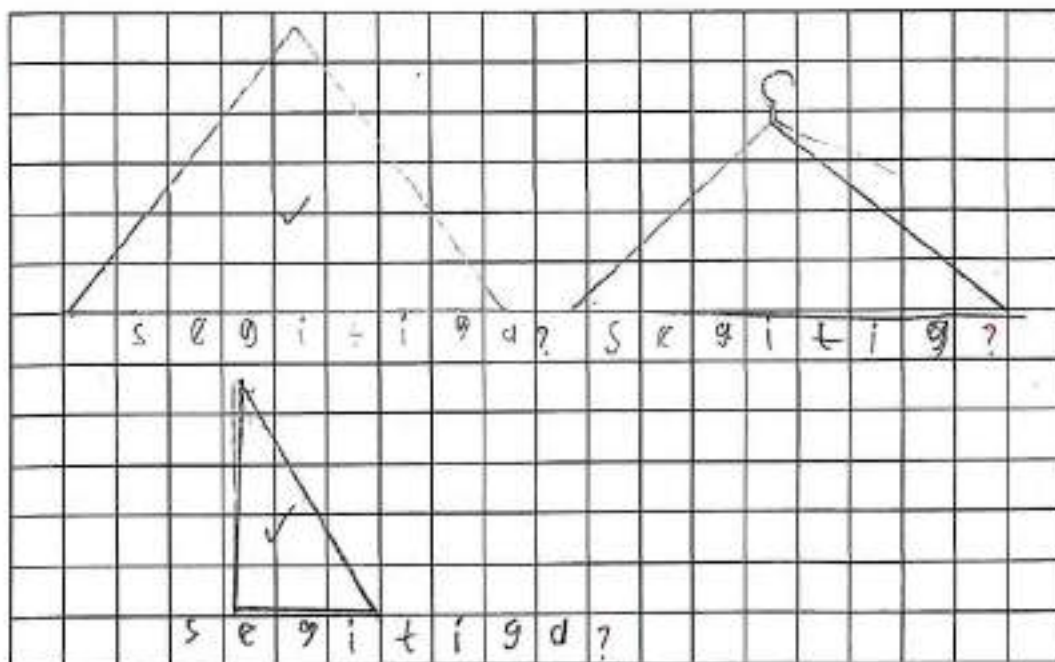
8. Gambarlah ~~dua~~ bangun persegi dan ~~dua~~ bangun persegi panjang yang ukurannya berbeda, kemudian berikan keterangan nama bangun datar apa yang sudah kamu buat!

17



9. Gambarlah tiga macam segitiga yang kamu ketahui, kemudian berikan keterangan nama bangun datar apa yang sudah kamu buat!

6



10. Perhatikan gambar di bawah ini!



Lemari



Jendela



Pintu



Penggaris segitiga



Hanger (gantungan baju)



Jam dinding



Plafon eternit atap



Buku



Meja

Kumpulkan benda-benda di atas sesuai dengan sifat yang dimilikinya!

- a. Nama benda yang memiliki 4 sisi yang sama panjang dan memiliki 4 sudut siku-siku
Pintu

- b. Nama benda yang mempunyai 3 sisi dan 3 titik sudut.

Penggaris segitiga

B.15

- c. Nama benda yang memiliki 2 pasang sisi yang berhadapan sama panjang dan sejajar

Plafon eternit atap

Pintu

3.15

PRETEST

Nama : Halwa

Kelas : II

22,5

I. Jawablah pertanyaan di bawah ini dengan cara memberikan tanda silang pada salah satu jawaban benar!

1. Apa nama bangun datar yang memiliki satu sisi miring dan salah satu sudutnya berbentuk siku-siku?

☒ a. Segitiga siku-siku b. Persegi c. Lingkaran

2.



Toni mempunyai mainan berbentuk segitiga. Ketiga sisi mainan sama panjang. Ketiga pojoknya sama besar. Berbentuk bangun apakah mainan Toni tersebut?

a. Persegi panjang b. Layang-layang ☒ c. Segitiga sama sisi

3.



Nila membuat sapu tangan. Panjang masing-masing sisinya 20 cm. Keempat pojoknya siku-siku. Berbentuk bangun apakah sapu tangan yang dibuat Nila?

☒ a. Persegi b. Segitiga siku-siku c. Persegi panjang



4. Pak Arifin berkunjung ke Candi Dermo pada hari Minggu. Saat memasuki wilayah candi, Pak Arifin melihat ada sebuah taman berbentuk segiempat di depan Candi. Taman tersebut memiliki 2 pasang sisi yang berhadapan sama panjang dan sejajar serta memiliki 4 sudut siku-siku. Berbentuk bangun apakah taman yang dilihat Pak Arifin?

☒ a. Persegi panjang b. Lingkaran c. Jajar genjang

5.



Ibu mempunyai kue berbentuk segitiga. Kedua sisi kue itu sama panjang. Kedua pojoknya sama besar. Berbentuk apakah kue ibu tersebut?

☒ a. Segitiga sama kaki b. Persegi panjang ☒ c. Segitiga siku-siku

II. Jawablah pertanyaan di bawah ini dengan cara mengisi titik-titik dengan jawaban yang benar!



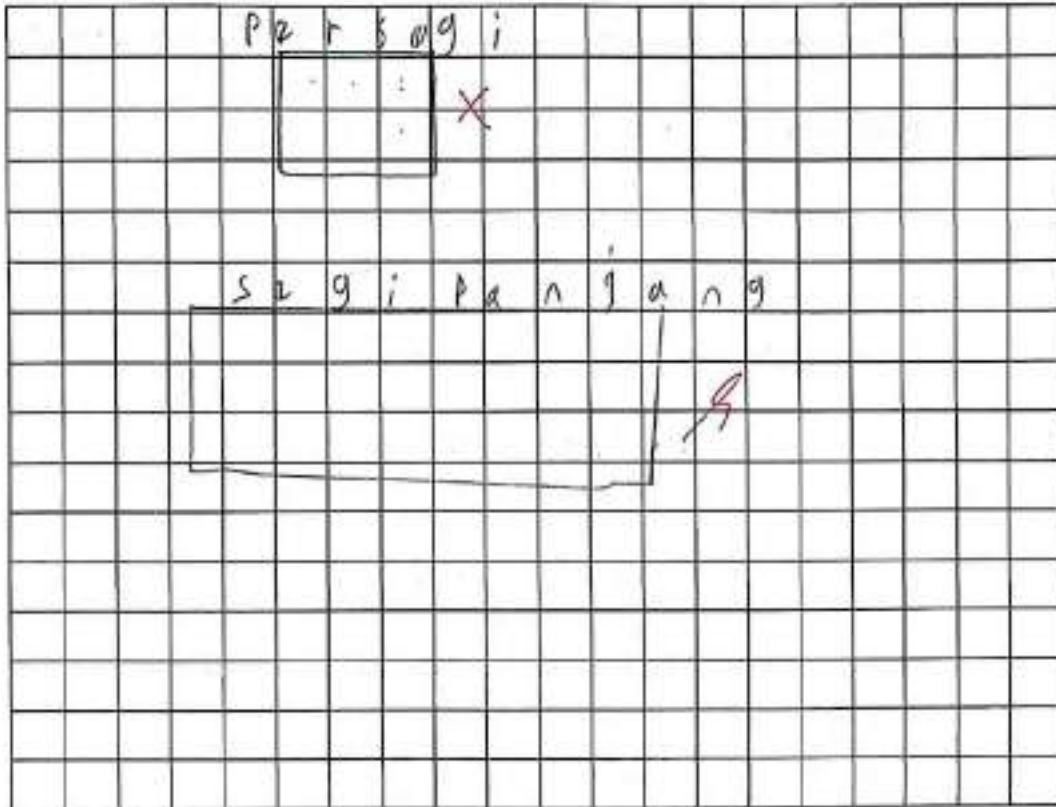
6. Arya dan Doni adalah pesilat hebat. Setiap berlatih silat, mereka selalu menggunakan seragam hitam, dan topi di kepala. Bentuk bangun datar yang ada pada topi Arya dan Doni adalah... Segitiga



7. Gambar di samping adalah gambar anak tangga yang ada di Candi Dermo, bentuk bangun datar apa yang kamu temukan pada gambar anak tangga disamping? *Persegi panjang* 5

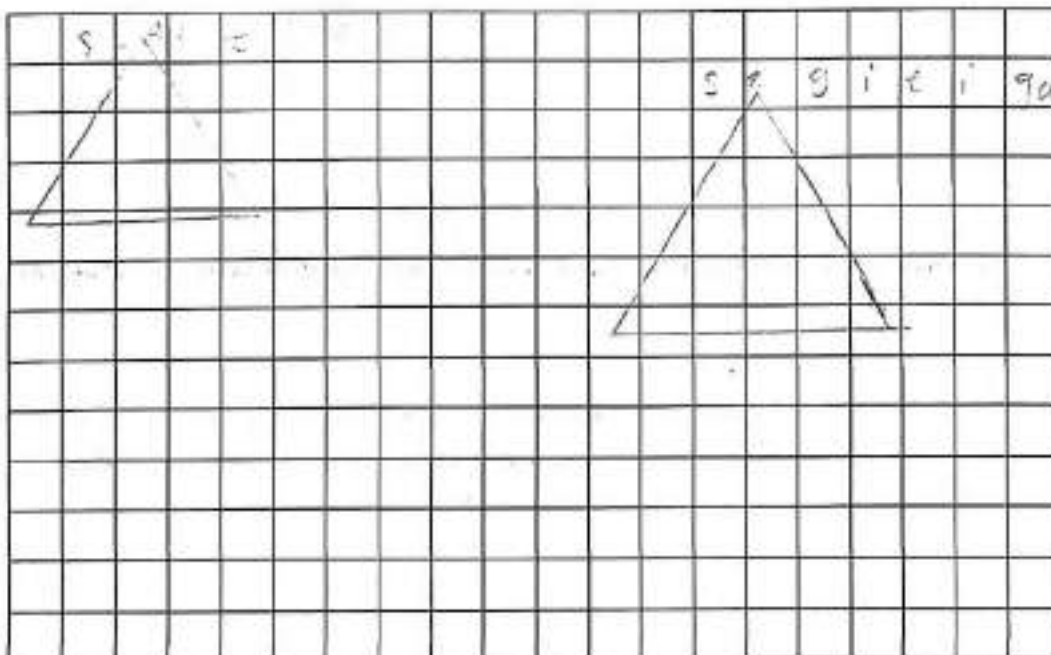
8. Gambarkan ~~dua~~ bangun persegi dan ~~dua~~ bangun persegi panjang yang ukurannya berbeda, kemudian berikan keterangan nama bangun datar apa yang sudah kamu buat!

8.5



9. Gambarkan tiga macam segitiga yang kamu ketahui, kemudian berikan keterangan nama bangun datar apa yang sudah kamu buat!

3



10. Perhatikan gambar di bawah ini!



Lemari



Jendela



Pintu



Penggaris segitiga



hanger (gantungan baju)



Jam dinding



Piafon eternit atap



Buku



Meja

Kumpulkan benda-benda di atas sesuai dengan sifat yang dimilikinya!

a. Nama benda yang memiliki 4 sisi yang sama panjang dan memiliki 4 sudut siku-siku

meja

b. Nama benda yang mempunyai 3 sisi dan 3 titik sudut.

penggaris segitiga

c. Nama benda yang memiliki 2 pasang sisi yang berhadapan sama panjang dan sejajar

lemari

PRETEST

40,5


Nama : Farel

Kelas : 3


I. Jawablah pertanyaan di bawah ini dengan cara memberikan tanda silang pada salah satu jawaban benar!

1. Apa nama bangun datar yang memiliki satu sisi miring dan salah satu sudutnya berbentuk siku-siku?

☒ a. Segitiga siku-siku b. Persegi c. Lingkaran

2.  Toni mempunyai mainan berbentuk segitiga. Ketiga sisi mainan sama panjang. Ketiga pojoknya sama besar. Berbentuk bangun apakah mainan Toni tersebut?

☐ a. Persegi panjang b. Layang-layang ☒ c. Segitiga sama sisi

3.  Nila membuat sapu tangan. Panjang masing-masing sisinya 20 cm. Keempat pojoknya siku-siku. Berbentuk bangun apakah sapu tangan yang dibuat Nila?

☒ a. Persegi b. Segitiga siku-siku c. Persegi panjang



4. Pak Arifin berkunjung ke Candi Dermo pada hari Minggu. Saat memasuki wilayah candi, Pak Arifin melihat ada sebuah taman berbentuk segiempat di depan Candi. Taman tersebut memiliki 2 pasang sisi yang berhadapan sama panjang dan sejajar serta memiliki 4 sudut siku-siku. Berbentuk bangun apakah taman yang dilihat Pak Arifin?

☒ a. Persegi panjang b. Lingkaran c. Jajar genjang



- Ibu mempunyai kue berbentuk segitiga. Kedua sisi kue itu sama panjang. Kedua pojoknya sama besar. Berbentuk apakah kue ibu tersebut?

☒ a. Segitiga sama kaki ☒ b. Persegi panjang c. Segitiga siku-siku

II. Jawablah pertanyaan di bawah ini dengan cara mengisi titik-titik dengan jawaban yang benar!



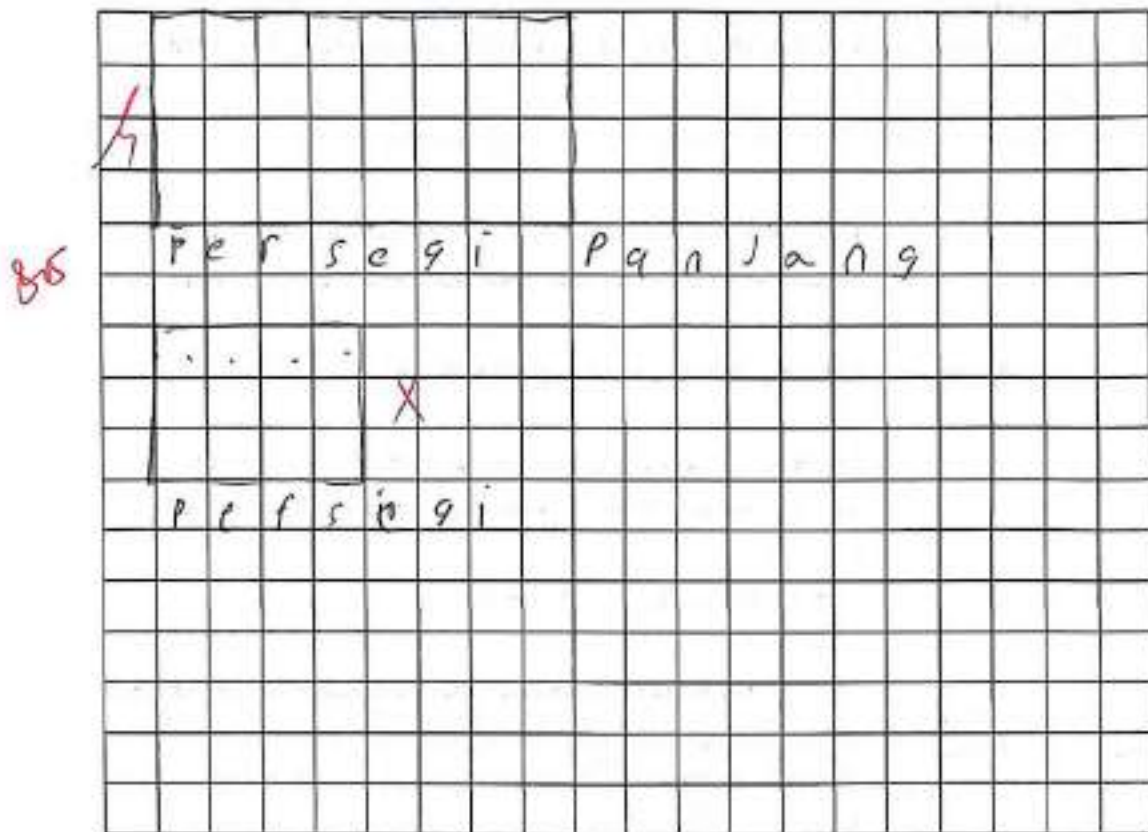
6. Arya dan Doni adalah pesilat hebat. Setiap berlatih silat, mereka selalu menggunakan seragam hitam, dan topi di kepala. Bentuk bangun datar yang ada pada topi Arya dan Doni adalah Segitiga

5




7. Gambar di samping adalah gambar anak tangga yang ada di Candi Dermó, bentuk bangun datar apa yang kamu temukan pada gambar anak tangga disamping?

8. Gambarlah ~~dua~~ bangun persegi dan ~~dua~~ bangun persegi panjang yang ukurannya berbeda, kemudian berikan keterangan nama bangun datar apa yang sudah kamu buat!



9. Gambarlah tiga macam segitiga yang kamu ketahui, kemudian berikan keterangan nama bangun datar apa yang sudah kamu buat!



10. Perhatikan gambar di bawah ini!



Lemari



Jendela



Pintu



Penggaris segitiga



Hanger (gantungan baju)



Jam dinding



Plafon eternit atap



Buku



Meja

Kumpulkan benda-benda di atas sesuai dengan sifat yang dimilikinya!

- a. Nama benda yang memiliki 4 sisi yang sama panjang dan memiliki 4 sudut siku-siku

jam dinding

8,5

- b. Nama benda yang mempunyai 3 sisi dan 3 titik sudut.

Penggaris segitiga

8,5

- c. Nama benda yang memiliki 2 pasang sisi yang berhadapan sama panjang dan sejajar

Meja

PRETEST

54

Nama : Ataulloh Erga al irsyad

Kelas : 3

I. Jawablah pertanyaan di bawah ini dengan cara memberikan tanda silang pada salah satu jawaban benar!

1. Apa nama bangun datar yang memiliki satu sisi miring dan salah satu sudutnya berbentuk siku-siku?

☒ a. Segitiga siku-siku b. Persegi c. Lingkaran

2.



Toni mempunyai mainan berbentuk segitiga. Ketiga sisi mainan sama panjang. Ketiga pojoknya sama besar. Berbentuk bangun apakah mainan Toni tersebut?

☐ a. Persegi panjang b. Layang-layang ☒ c. Segitiga sama sisi

3.



Nila membuat sapu tangan. Panjang masing-masing sisinya 20 cm. Keempat pojoknya siku-siku. Berbentuk bangun apakah sapu tangan yang dibuat Nila?

☒ a. Persegi b. Segitiga siku-siku c. Persegi panjang



4. Pak Arifin berkunjung ke Candi Dermo pada hari Minggu. Saat memasuki wilayah candi, Pak Arifin melihat ada sebuah taman berbentuk segiempat di depan Candi. Taman tersebut memiliki 2 pasang sisi yang berhadapan sama panjang dan sejajar serta memiliki 4 sudut siku-siku. Berbentuk bangun apakah taman yang dilihat Pak Arifin?

☒ a. Persegi panjang b. Lingkaran c. Jajar genjang

5.



Ibu mempunyai kue berbentuk segitiga. Kedua sisi kue itu sama panjang. Kedua pojoknya sama besar. Berbentuk apakah kue ibu tersebut?

☒ a. Segitiga sama kaki ☒ b. Persegi panjang c. Segitiga siku-siku

II. Jawablah pertanyaan di bawah ini dengan cara mengisi titik-titik dengan jawaban yang benar!

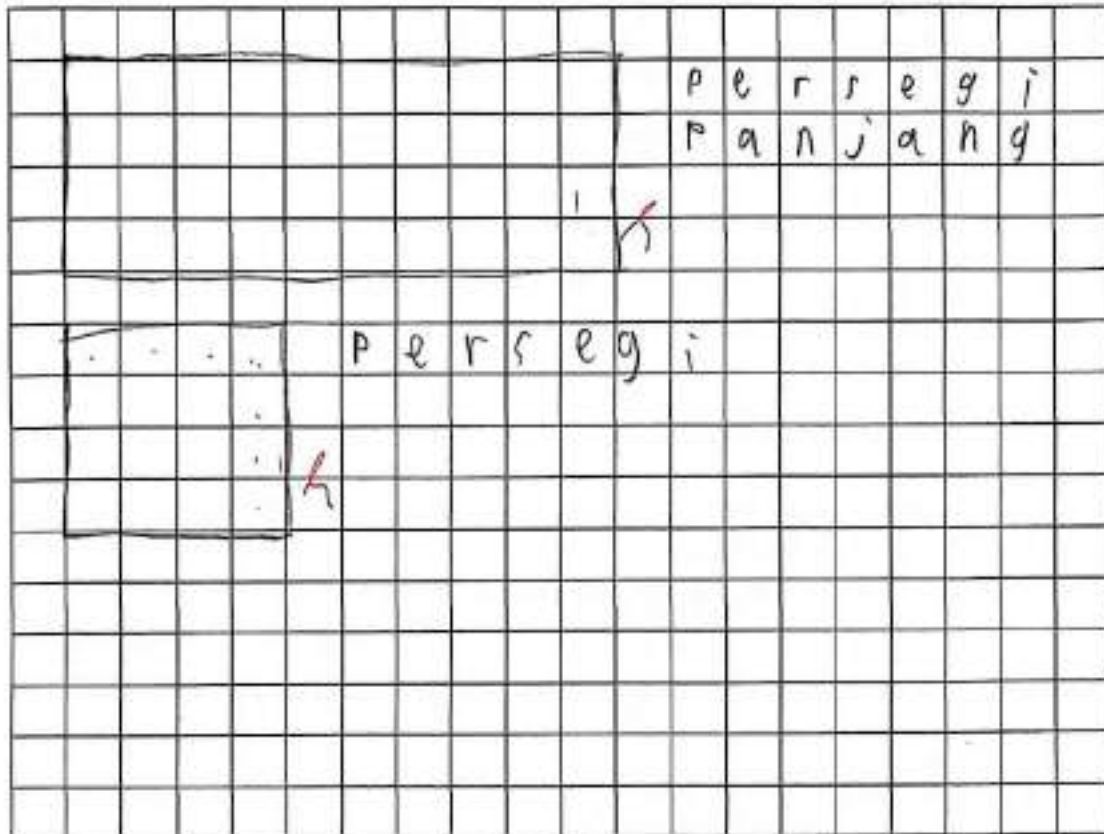


6. Arya dan Doni adalah pesilat hebat. Setiap berlatih silat, mereka selalu menggunakan seragam hitam, dan topi di kepala. Bentuk bangun datar yang ada pada topi Arya dan Doni adalah Segitiga 5




7. Gambar di samping adalah gambar anak tangga yang ada di Candi Dermo, bentuk bangun datar apa yang kamu temukan pada gambar anak tangga disamping? *persegi panjang* 5

8. Gambarlah ~~dua~~ bangun persegi dan ~~dua~~ bangun persegi panjang yang ukurannya berbeda, kemudian berikan keterangan nama bangun datar apa yang sudah kamu buat!



9. Gambarlah tiga macam segitiga yang kamu ketahui, kemudian berikan keterangan nama bangun datar apa yang sudah kamu buat!



10. Perhatikan gambar di bawah ini!



Lemari



Jendela



Pintu



Penggaris segitiga



Hanger (gantungan baju)



Jam dinding



Plafon eternit atap



Buku



Meja

Kumpulkan benda-benda di atas sesuai dengan sifat yang dimilikinya!

a. Nama benda yang memiliki 4 sisi yang sama panjang dan memiliki 4 sudut siku-siku

jam dinding

8.5

b. Nama benda yang mempunyai 3 sisi dan 3 titik sudut.

penggaris segitiga

8.5

✓ Nama benda yang memiliki 2 pasang sisi yang berhadapan sama panjang dan sejajar

hanger

PRETEST

Nama :

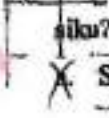
Kelas :



ig: @siti.ayu

I. Jawablah pertanyaan di bawah ini dengan cara memberikan tanda silang pada salah satu jawaban benar!

1. Apa nama bangun datar yang memiliki satu sisi miring dan salah satu sudutnya berbentuk siku-



☒ Segitiga siku-siku

b. Persegi

c. Lingkaran

2.



Toni mempunyai mainan berbentuk segitiga. Ketiga sisi mainan sama panjang. Ketiga pojoknya sama besar. Berbentuk bangun apakah mainan Toni tersebut?

a. Persegi panjang

b. Layang-layang

☒ Segitiga sama sisi



3.



Nila membuat sapu tangan. Panjang masing-masing sisinya 20 cm. Keempat pojoknya siku-siku. Berbentuk bangun apakah sapu tangan yang dibuat Nila?

☒ a. Persegi

☒ b. Segitiga siku-siku

c. Persegi panjang



4. Pak Arifin berkunjung ke Candi Dermo pada hari Minggu. Saat memasuki wilayah candi, Pak Arifin melihat ada sebuah taman berbentuk segiempat di depan Candi. Taman tersebut memiliki 2 pasang sisi yang berhadapan sama panjang dan sejajar serta memiliki 4 sudut siku-siku. Berbentuk bangun apakah taman yang dilihat Pak Arifin?

☒ a. Persegi panjang

b. Lingkaran

c. Jajar genjang

5.



Ibu mempunyai kue berbentuk segitiga. Kedua sisi kue itu sama panjang. Kedua pojoknya sama besar. Berbentuk apakah kue ibu tersebut?

☒ a. Segitiga sama kaki

b. Persegi panjang

c. Segitiga siku-siku

II. Jawablah pertanyaan di bawah ini dengan cara mengisi titik-titik dengan jawaban yang benar!



6. Arya dan Doni adalah pesilat hebat. Setiap berlatih silat, mereka selalu menggunakan seragam hitam, dan topi di kepala. Bentuk bangun datar yang ada pada topi Arya dan Doni adalah segitiga

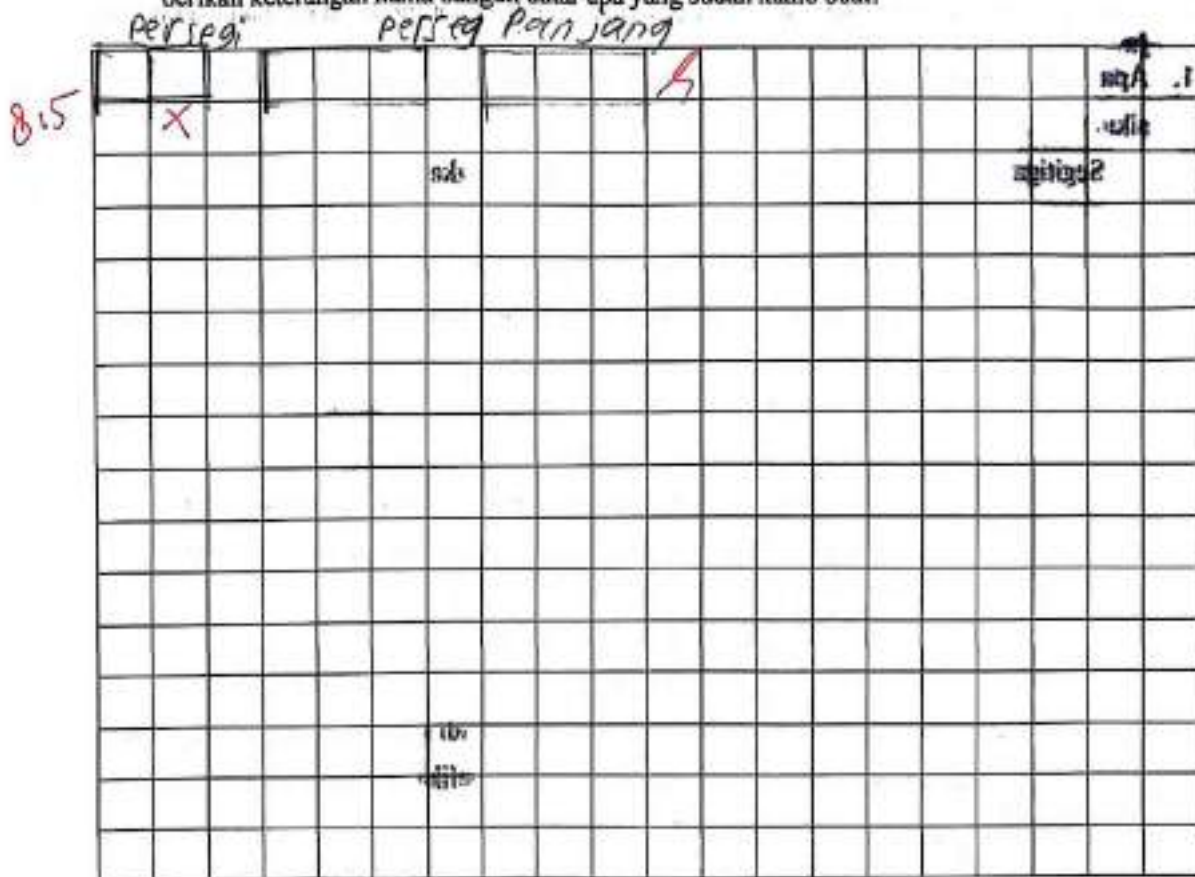
5.2.2019

5




7. Gambar di samping adalah gambar anak tangga yang ada di Candi Dermo, bentuk bangun datar apa yang kamu temukan pada gambar anak tangga disamping? *persegi panjang*

8. Gambarlah ~~dua~~ bangun persegi dan ~~dua~~ bangun persegi panjang yang ukurannya berbeda, kemudian berikan keterangan nama bangun datar apa yang sudah kamu buat!



9. Gambarlah tiga macam segitiga yang kamu ketahui, kemudian berikan keterangan nama bangun datar apa yang sudah kamu buat!



10. Perhatikan gambar di bawah ini!



Lemari



Jendela



Pintu



Penggaris segitiga



Hanger (gantungan baju)



Jam dinding



Plafon eternit atap



Buku



Meja

Kumpulkan benda-benda di atas sesuai dengan sifat yang dimilikinya!

a. Nama benda yang memiliki 4 sisi yang sama panjang dan memiliki 4 sudut siku-siku

lemari, jendela, pintu

b. Nama benda yang mempunyai 3 sisi dan 3 titik sudut.

penggaris segitiga, hanger (gantungan baju)

c. Nama benda yang memiliki 2 pasang sisi yang berhadapan sama panjang dan sejajar

meja, buku

PRETEST

Nama : PuTri

Kelas : 3

33

I. Jawablah pertanyaan di bawah ini dengan cara memberikan tanda silang pada salah satu jawaban benar!

1. Apa nama bangun datar yang memiliki satu sisi miring dan salah satu sudutnya berbentuk siku-siku?

☒ a. Segitiga siku-siku b. Persegi c. Lingkaran

2.



Toni mempunyai mainan berbentuk segitiga. Ketiga sisi mainan sama panjang. Ketiga pojoknya sama besar. Berbentuk bangun apakah mainan Toni tersebut?

☒ a. Persegi panjang b. Layang-layang c. Segitiga sama sisi

3.



Nila membuat sapu tangan. Panjang masing-masing sisinya 20 cm. Keempat pojoknya siku-siku. Berbentuk bangun apakah sapu tangan yang dibuat Nila?

☒ a. Persegi b. Segitiga siku-siku c. Persegi panjang



4. Pak Arifin berkunjung ke Candi Dermo pada hari Minggu. Saat memasuki wilayah candi, Pak Arifin melihat ada sebuah taman berbentuk segiempat di depan Candi. Taman tersebut memiliki 2 pasang sisi yang berhadapan sama panjang dan sejajar serta memiliki 4 sudut siku-siku. Berbentuk bangun apakah taman yang dilihat Pak Arifin?

☒ a. Persegi panjang b. Lingkaran c. Jajar genjang

5.



Ibu mempunyai kue berbentuk segitiga. Kedua sisi kue itu sama panjang. Kedua pojoknya sama besar. Berbentuk apakah kue ibu tersebut?

☒ a. Segitiga sama kaki b. Persegi panjang c. Segitiga siku-siku

II. Jawablah pertanyaan di bawah ini dengan cara mengisi titik-titik dengan jawaban yang benar!

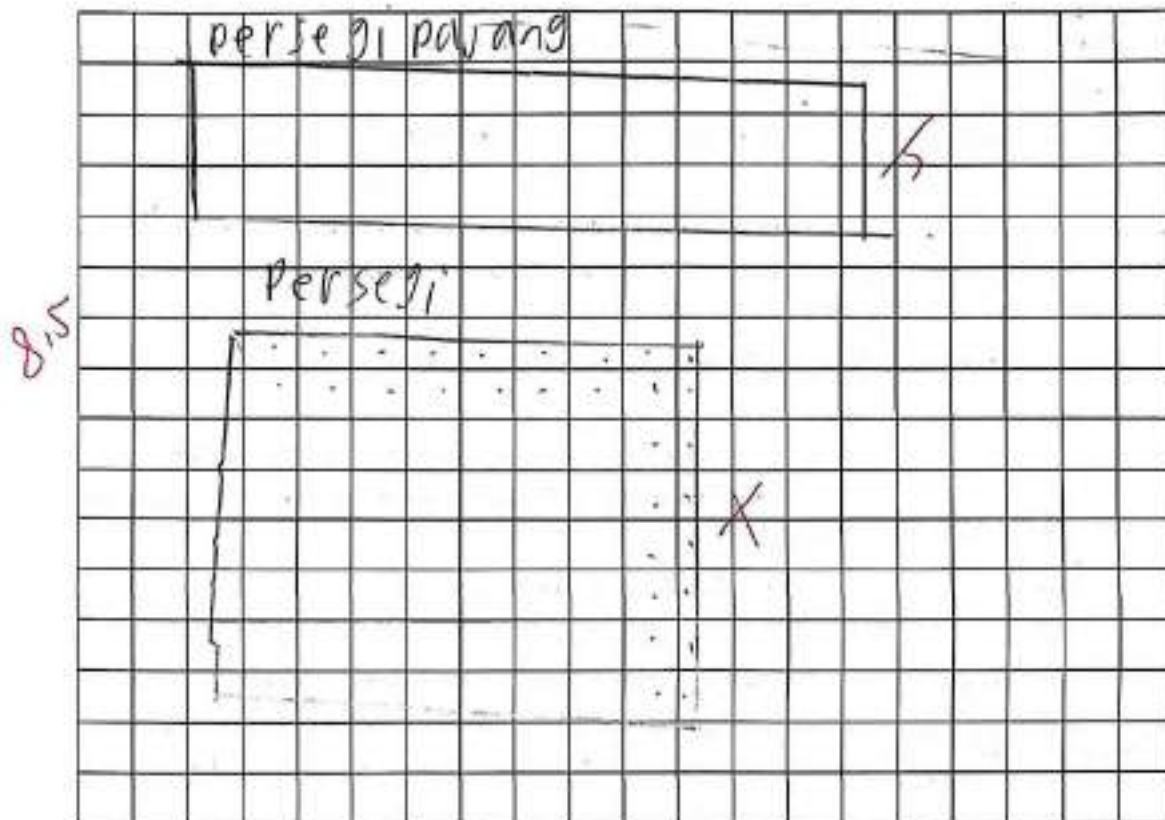


6. Arya dan Doni adalah pesilat hebat. Setiap berlatih silat, mereka selalu menggunakan seragam hitam, dan topi di kepala. Bentuk bangun datar yang ada pada topi Arya dan Doni adalah persegi panjang




7. Gambar di samping adalah gambar anak tangga yang ada di Candi Dermo, bentuk bangun datar apa yang kamu temukan pada gambar anak tangga disamping? *persegi panjang* 5

8. Gambarlah ~~dua~~ bangun persegi dan ~~dua~~ bangun persegi panjang yang ukurannya berbeda, kemudian berikan keterangan nama bangun datar apa yang sudah kamu buat!



9. Gambarlah tiga macam segitiga yang kamu ketahui, kemudian berikan keterangan nama bangun datar apa yang sudah kamu buat!



10. Perhatikan gambar di bawah ini!



Lemari



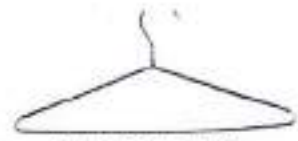
Jendela



Pintu



Penggaris segitiga



Hanger (gantungan baju)



Jam dinding



Plafon eternit atap



Buku



Meja

Kumpulkan benda-benda di atas sesuai dengan sifat yang dimilikinya!

a. Nama benda yang memiliki 4 sisi yang sama panjang dan memiliki 4 sudut siku-siku
pintu

b. Nama benda yang mempunyai 3 sisi dan 3 titik sudut.

penggaris segitiga

8.5

c. Nama benda yang memiliki 2 pasang sisi yang berhadapan sama panjang dan sejajar

pesil


PRETEST

59.5


I. Jawablah pertanyaan di bawah ini dengan cara memberikan tanda silang pada salah satu jawaban benar!

1. Apa nama bangun datar yang memiliki satu sisi miring dan salah satu sudutnya berbentuk siku-siku?


- a. Segitiga siku-siku b. Persegi c. Lingkaran

2.  Toni mempunyai mainan berbentuk segitiga. Ketiga sisi mainan sama panjang. Ketiga pojoknya sama besar. Berbentuk bangun apakah mainan Toni tersebut?


- a. Persegi panjang b. Layang-layang c. Segitiga sama sisi

3.  Nila membuat sapu tangan. Panjang masing-masing sisinya 20 cm. Keempat pojoknya siku-siku. Berbentuk bangun apakah sapu tangan yang dibuat Nila?

- a. Persegi b. Segitiga siku-siku c. Persegi panjang

4.  Pak Arifin berkunjung ke Candi Dermo pada hari Minggu. Saat memasuki wilayah candi, Pak Arifin melihat ada sebuah taman berbentuk segiempat di depan Candi. Taman tersebut memiliki 2 pasang sisi yang berhadapan sama panjang dan sejajar serta memiliki 4 sudut siku-siku. Berbentuk bangun apakah taman yang dilihat Pak Arifin?

- a. Persegi panjang b. Lingkaran c. Jajar genjang

5.  Ibu mempunyai kue berbentuk segitiga. Kedua sisi kue itu sama panjang. Kedua pojoknya sama besar. Berbentuk apakah kue ibu tersebut?

- a. Segitiga sama kaki b. Persegi panjang c. Segitiga siku-siku

II. Jawablah pertanyaan di bawah ini dengan cara mengisi titik-titik dengan jawaban yang benar!




6. Arya dan Doni adalah pesilat hebat. Setiap berlatih silat, mereka selalu menggunakan seragam hitam, dan topi di kepala. Bentuk bangun datar yang ada pada topi Arya dan Doni adalah segitiga 5




7. Gambar di samping adalah gambar anak tangga yang ada di Candi Dermo, bentuk bangun datar apa yang kamu temukan pada gambar anak tangga di atas? persegi panjang 5

8. Gambarkan ~~dua~~ bangun persegi dan ~~dua~~ bangun persegi panjang yang ukurannya berbeda, kemudian berikan keterangan nama bangun datar apa yang sudah kamu buat!



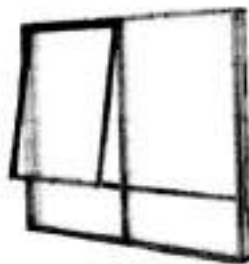
9. Gambarkan tiga macam segitiga yang kamu ketahui, kemudian berikan keterangan nama bangun datar apa yang sudah kamu buat!



10. Perhatikan gambar di bawah ini!



Lemari



Jendela



Pintu



Penggaris segitiga



Hanger (gantungan baju)



Jam dinding



Plafon eternit atap



Buku



Meja

Kumpulkan benda-benda di atas sesuai dengan sifat yang dimilikinya!

- a. Nama benda yang memiliki 4 sisi yang sama panjang dan memiliki 4 sudut siku-siku

8.5 Meja, buku, jendela dan jam dinding

- b. Nama benda yang mempunyai 3 sisi dan 3 titik sudut.

17

- c. Nama benda yang memiliki 2 pasang sisi yang berhadapan sama panjang dan sejajar

7

Meja, buku, jendela dan jam dinding

PRETEST

Nama: Faeyza Rafanda Pangestu
Kelas: Tiga

49,5

I. Jawablah pertanyaan di bawah ini dengan cara memberikan tanda silang pada salah satu jawaban benar!

1. Apa nama bangun datar yang memiliki satu sisi miring dan salah satu sudutnya berbentuk siku-siku?

☒ a. Segitiga siku-siku b. Persegi c. Lingkaran

2.



Toni mempunyai mainan berbentuk segitiga. Ketiga sisi mainan sama panjang. Ketiga pojoknya sama besar. Berbentuk bangun apakah mainan Toni tersebut?

☐ a. Persegi panjang b. Layang-layang ☒ c. Segitiga sama sisi

3.



Nila membuat sapu tangan. Panjang masing-masing sisinya 20 cm. Keempat pojoknya siku-siku. Berbentuk bangun apakah sapu tangan yang dibuat Nila?

☒ a. Persegi b. Segitiga siku-siku c. Persegi panjang



4. Pak Arifin berkunjung ke Candi Dermo pada hari Minggu. Saat memasuki wilayah candi, Pak Arifin melihat ada sebuah taman berbentuk segiempat di depan Candi. Taman tersebut memiliki 2 pasang sisi yang berhadapan sama panjang dan sejajar serta memiliki 4 sudut siku-siku. Berbentuk bangun apakah taman yang dilihat Pak Arifin?

☐ a. Persegi panjang b. Lingkaran c. Jajar genjang

5.



Ibu mempunyai kue berbentuk segitiga. Kedua sisi kue itu sama panjang. Kedua pojoknya sama besar. Berbentuk apakah kue ibu tersebut?

☒ a. Segitiga sama kaki b. Persegi panjang ☐ c. Segitiga siku-siku

II. Jawablah pertanyaan di bawah ini dengan cara mengisi titik-titik dengan jawaban yang benar!



6. Arya dan Doni adalah pesilat hebat. Setiap berlatih silat, mereka selalu menggunakan seragam hitam, dan topi di kepala. Bentuk bangun datar yang ada pada topi Arya dan Doni adalah Segitiga.



7. Gambar di samping adalah gambar anak tangga yang ada di Candi Dermo, bentuk bangun datar apa yang kamu temukan pada gambar anak tangga disamping?

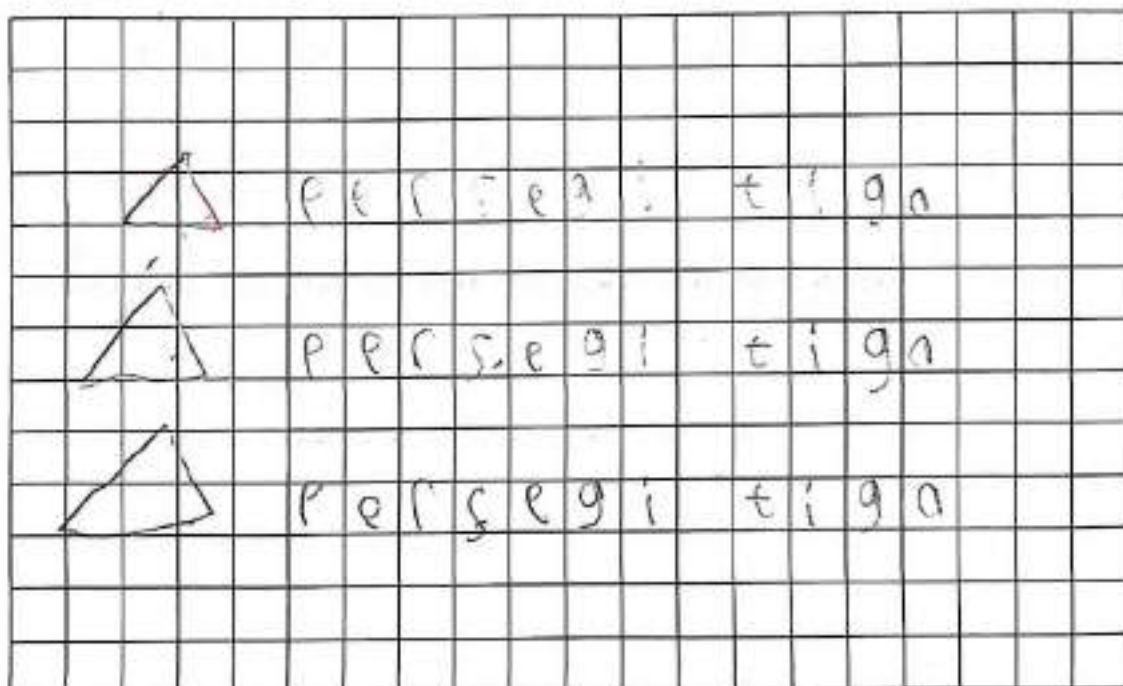
8. Gambarlah ~~dua~~ bangun persegi dan ~~dua~~ bangun persegi panjang yang ukurannya berbeda, kemudian berikan keterangan nama bangun datar apa yang sudah kamu buat!

17



9. Gambarlah tiga macam segitiga yang kamu ketahui, kemudian berikan keterangan nama bangun datar apa yang sudah kamu buat!

3



10. Perhatikan gambar di bawah ini!



Lemari



Jendela



Pintu



Penggaris segitiga



Hanger (gantungan baju)



Jam dinding



Plafon eternit atap



Buku



Meja

Kumpulkan benda-benda di atas sesuai dengan sifat yang dimilikinya!

a. Nama benda yang memiliki 4 sisi yang sama panjang dan memiliki 4 sudut siku-siku

8,5 Buku Jam Lemari

b. Nama benda yang mempunyai 3 sisi dan 3 titik sudut.

6,5 Hanger

c. Nama benda yang memiliki 2 pasang sisi yang berhadapan sama panjang dan sejajar

3,5 Pintu

PRETEST

Nama :

Zlob

(46)

Kelas :

I. Jawablah pertanyaan di bawah ini dengan cara memberikan tanda silang pada salah satu jawaban benar!

1. Apa nama bangun datar yang memiliki satu sisi miring dan salah satu sudutnya berbentuk siku-siku?

☒ a. Segitiga siku-siku

b. Persegi

c. Lingkaran

2.



Toni mempunyai mainan berbentuk segitiga. Ketiga sisi mainan sama panjang. Ketiga pojoknya sama besar. Berbentuk bangun apakah mainan Toni tersebut?

a. Persegi panjang

b. Layang-layang

☒ c. Segitiga sama sisi

3.



Nila membuat sapu tangan. Panjang masing-masing sisinya 20 cm. Keempat pojoknya siku-siku. Berbentuk bangun apakah sapu tangan yang dibuat Nila?

☒ a. Persegi

☒ b. Segitiga siku-siku

c. Persegi panjang



4. Pak Arifin berkunjung ke Candi Dermo pada hari Minggu. Saat memasuki wilayah candi, Pak Arifin melihat ada sebuah taman berbentuk segiempat di depan Candi. Taman tersebut memiliki 2 pasang sisi yang berhadapan sama panjang dan sejajar serta memiliki 4 sudut siku-siku. Berbentuk bangun apakah taman yang dilihat Pak Arifin?

☒ a. Persegi panjang

b. Lingkaran

c. Jajar genjang

5.



Ibu mempunyai kue berbentuk segitiga. Kedua sisi kue itu sama panjang. Kedua pojoknya sama besar. Berbentuk apakah kue ibu tersebut?

☒ a. Segitiga sama kaki

b. Persegi panjang

c. Segitiga siku-siku

II. Jawablah pertanyaan di bawah ini dengan cara mengisi titik-titik dengan jawaban yang benar!




6. Arya dan Doni adalah pesilat hebat. Setiap berlatih silat, mereka selalu menggunakan seragam hitam, dan topi di kepala. Bentuk bangun datar yang ada pada topi Arya dan Doni adalah... Segitiga



7. Gambar di samping adalah gambar anak tangga yang ada di Candi Dermo, bentuk bangun datar apa yang kamu temukan pada gambar anak tangga disamping? *persegi panjang*

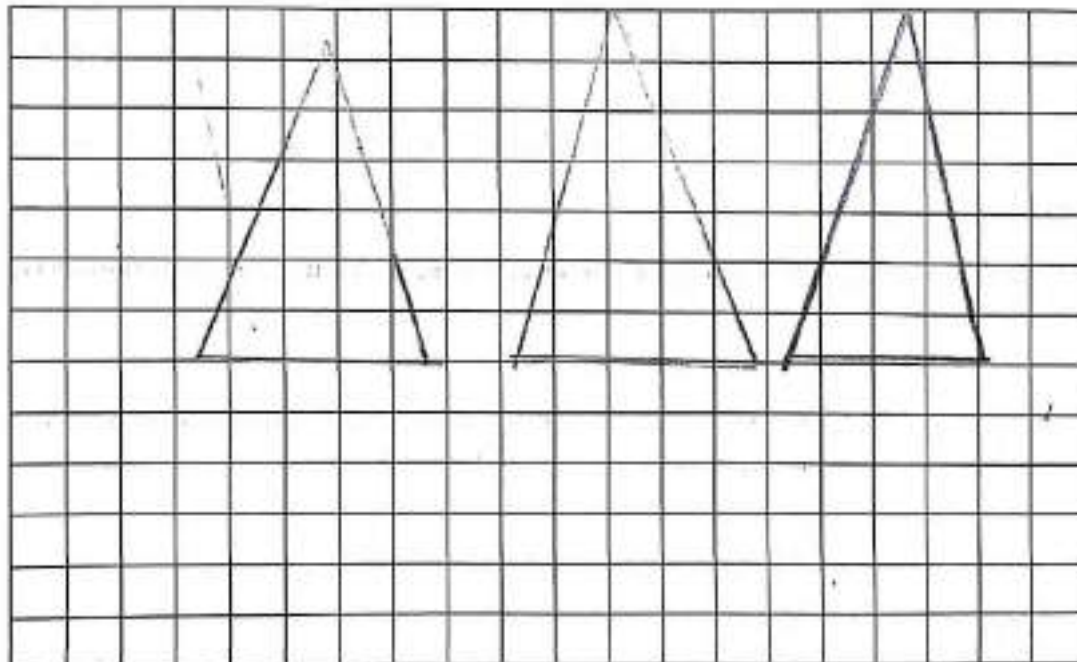
8. Gambarlah ~~dua~~ bangun persegi dan ~~dua~~ bangun persegi panjang yang ukurannya berbeda, kemudian berikan keterangan nama bangun datar apa yang sudah kamu buat!

6 *Persegi panjang*



9. Gambarlah tiga macam segitiga yang kamu ketahui, kemudian berikan keterangan nama bangun datar apa yang sudah kamu buat!

3



10. Perhatikan gambar di bawah ini!



Lemari



Jendela



Pintu



Penggaris segitiga



Hanger (gantungan baju)



Jam dinding



Plafon eternit atap



Buku



Meja

Kumpulkan benda-benda di atas sesuai dengan sifat yang dimilikinya!

- a. Nama benda yang memiliki 4 sisi yang sama panjang dan memiliki 4 sudut siku-siku

8,5

Plafon eternit atap

- b. Nama benda yang mempunyai 3 sisi dan 3 titik sudut.

8,5

Penggaris segitiga

- c. Nama benda yang memiliki 2 pasang sisi yang berhadapan sama panjang dan sejajar

7

Buku

PRETEST

Nama : Zahwa.

Kelas : Tiga.

44,5

I. Jawablah pertanyaan di bawah ini dengan cara memberikan tanda silang pada salah satu jawaban benar!

1. Apa nama bangun datar yang memiliki satu sisi miring dan salah satu sudutnya berbentuk siku-siku?

☒ a. Segitiga siku-siku b. Persegi c. Lingkaran

2.



Toni mempunyai mainan berbentuk segitiga. Ketiga sisi mainan sama panjang. Ketiga pojoknya sama besar. Berbentuk bangun apakah mainan Toni tersebut?

a. Persegi panjang b. Layang-layang ☒ c. Segitiga sama sisi

3.



Nila membuat sapu tangan. Panjang masing-masing sisinya 20 cm. Keempat pojoknya siku-siku. Berbentuk bangun apakah sapu tangan yang dibuat Nila?

☒ a. Persegi b. Segitiga siku-siku c. Persegi panjang



4. Pak Arifin berkunjung ke Candi Dermo pada hari Minggu. Saat memasuki wilayah candi, Pak Arifin melihat ada sebuah taman berbentuk segiempat di depan Candi. Taman tersebut memiliki 2 pasang sisi yang berhadapan sama panjang dan sejajar serta memiliki 4 sudut siku-siku. Berbentuk bangun apakah taman yang dilihat Pak Arifin?

☒ a. Persegi panjang b. Lingkaran c. Jajar genjang

5.



Ibu mempunyai kue berbentuk segitiga. Kedua sisi kue itu sama panjang. Kedua pojoknya sama besar. Berbentuk apakah kue ibu tersebut?

☒ a. Segitiga sama kaki b. Persegi panjang ☒ c. Segitiga siku-siku

II. Jawablah pertanyaan di bawah ini dengan cara mengisi titik-titik dengan jawaban yang benar!



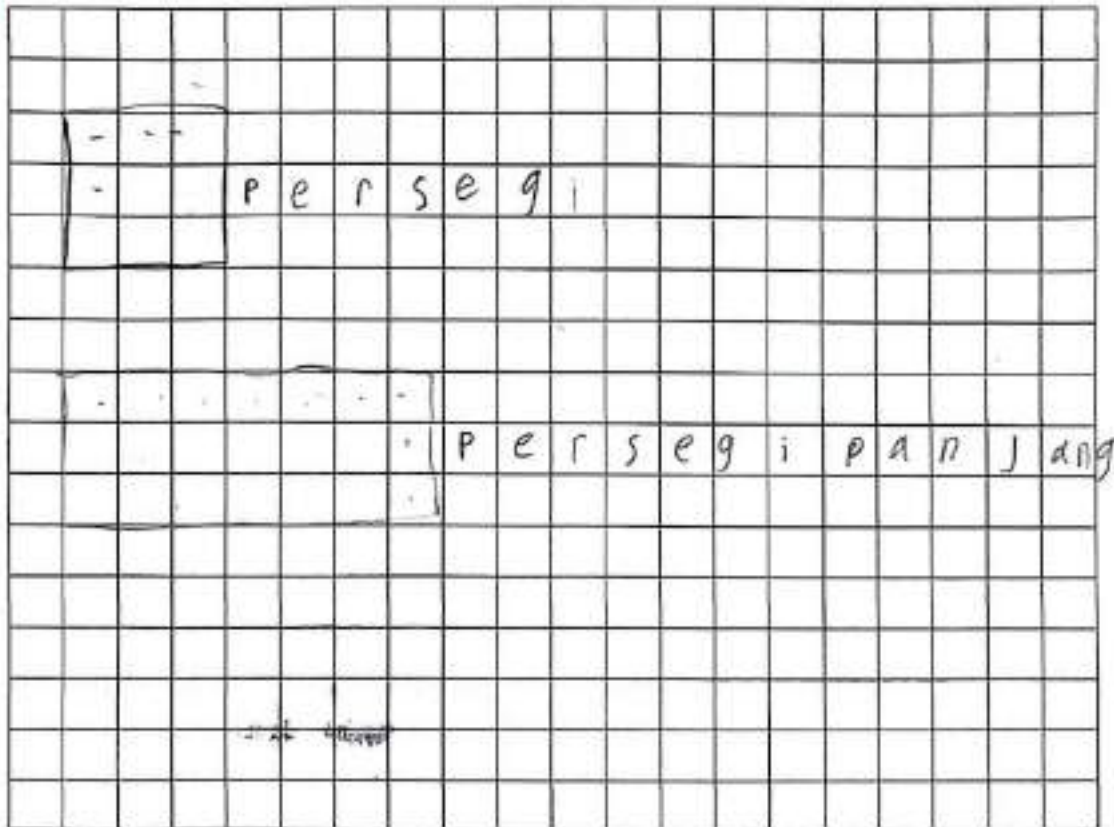
6. Arya dan Doni adalah pesilat hebat. Setiap berlatih silat, mereka selalu menggunakan seragam hitam, dan topi di kepala. Bentuk bangun datar yang ada pada topi Arya dan Doni adalah.....



7. Gambar di samping adalah gambar anak tangga yang ada di Candi Dermo, bentuk bangun datar apa yang kamu temukan pada gambar anak tangga disamping? persegi.....


8. Gambarkan ~~dua~~ bangun persegi dan ~~dua~~ bangun persegi panjang yang ukurannya berbeda, kemudian berikan keterangan nama bangun datar apa yang sudah kamu buat!

17



9. Gambarkan tiga macam segitiga yang kamu ketahui, kemudian berikan keterangan nama bangun datar apa yang sudah kamu buat!

3



10. Perhatikan gambar di bawah ini!



Lemari



Jendela



Pintu



Penggaris segitiga



Hangar (gantungan baju)



Jam dinding



Plafon eternit atap



Buku



Meja

Kumpulkan benda-benda di atas sesuai dengan sifat yang dimilikinya!

a. Nama benda yang memiliki 4 sisi yang sama panjang dan memiliki 4 sudut siku-siku

8,5 Jam, buku, meja, Pintu, Jendela, lemari

x

x

x

x

x

b. Nama benda yang mempunyai 3 sisi dan 3 titik sudut.

8,5 Penggaris segitiga

c. Nama benda yang memiliki 2 pasang sisi yang berhadapan sama panjang dan sejajar

3,5 Pintu

PRETEST

Nama: Sanderyn Alfando Seggaria

Kelas: 3

63,5

I. Jawablah pertanyaan di bawah ini dengan cara memberikan tanda silang pada salah satu jawaban benar!

1. Apa nama bangun datar yang memiliki satu sisi miring dan salah satu sudutnya berbentuk siku-siku?

☒ a. Segitiga siku-siku b. Persegi c. Lingkaran

2.



Toni mempunyai mainan berbentuk segitiga. Ketiga sisi mainan sama panjang. Ketiga pojoknya sama besar. Berbentuk bangun apakah mainan Toni tersebut?

a. Persegi panjang b. Layang-layang ☒ c. Segitiga sama sisi

3.



Nila membuat sapu tangan. Panjang masing-masing sisinya 20 cm. Keempat pojoknya siku-siku. Berbentuk bangun apakah sapu tangan yang dibuat Nila?

☒ a. Persegi b. Segitiga siku-siku c. Persegi panjang



4. Pak Arifin berkunjung ke Candi Dermo pada hari Minggu. Saat memasuki wilayah candi, Pak Arifin melihat ada sebuah taman berbentuk segiempat di depan Candi. Taman tersebut memiliki 2 pasang sisi yang berhadapan sama panjang dan sejajar serta memiliki 4 sudut siku-siku. Berbentuk bangun apakah taman yang dilihat Pak Arifin?

☒ a. Persegi panjang b. Lingkaran c. Jajar genjang

5.



Ibu mempunyai kue berbentuk segitiga. Kedua sisi kue itu sama panjang. Kedua pojoknya sama besar. Berbentuk apakah kue ibu tersebut?

☒ a. Segitiga sama kaki b. Persegi panjang c. Segitiga siku-siku

II. Jawablah pertanyaan di bawah ini dengan cara mengisi titik-titik dengan jawaban yang benar!



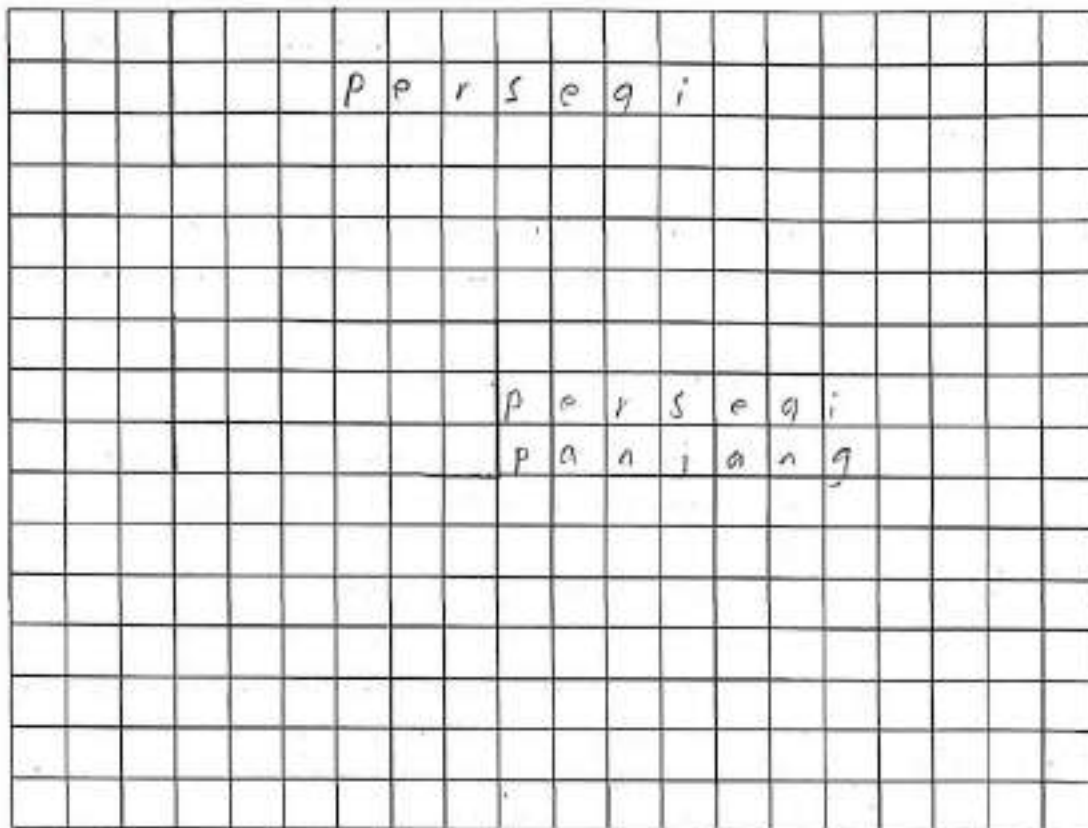
6. Arya dan Doni adalah pesilat hebat. Setiap berlatih silat, mereka selalu menggunakan seragam hitam, dan topi di kepala. Bentuk bangun datar yang ada pada topi Arya dan Doni adalah Segitiga..... 5



7. Gambar di samping adalah gambar anak tangga yang ada di Candi Dermo, bentuk bangun datar apa yang kamu temukan pada gambar anak tangga disamping? *persegi panjang* 5

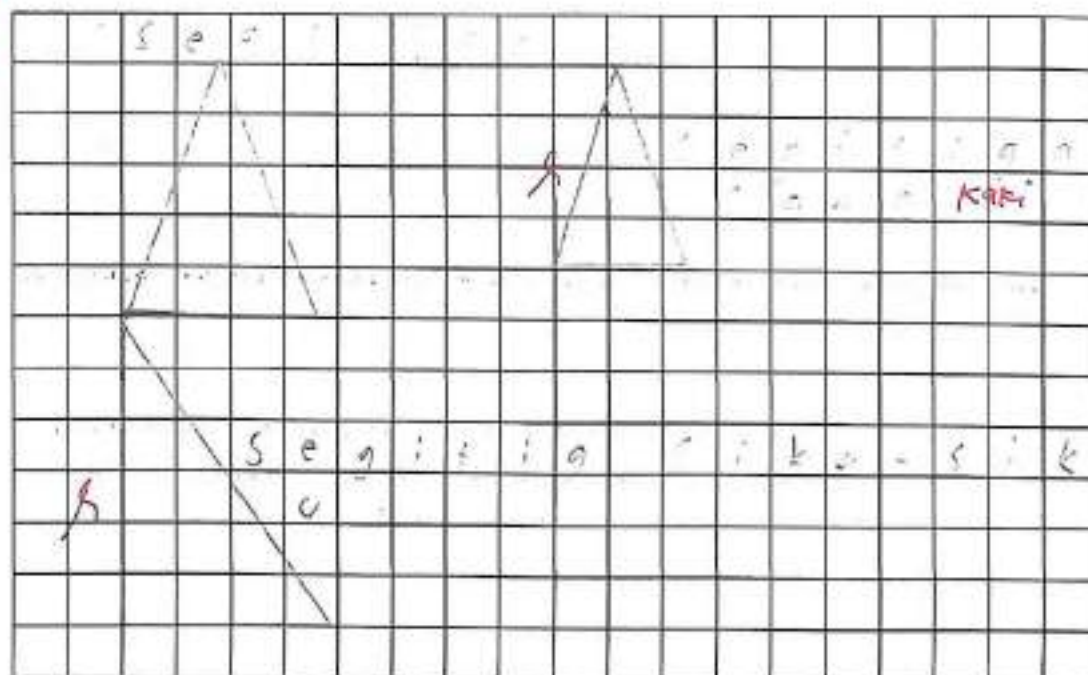
8. Gambarlah dua bangun persegi dan dua bangun persegi panjang yang ukurannya berbeda, kemudian berikan keterangan nama bangun datar apa yang sudah kamu buat!

17



9. Gambarlah tiga macam segitiga yang kamu ketahui, kemudian berikan keterangan nama bangun datar apa yang sudah kamu buat!

18



10. Perhatikan gambar di bawah ini!



Lemari



Jendela



Pintu



Penggaris segitiga



Hanger (gantungan baju)



Jam dinding



Plafon eternit etap



Buku



Meja

Kumpulkan benda-benda di atas sesuai dengan sifat yang dimilikinya!

a. Nama benda yang memiliki 4 sisi yang sama panjang dan memiliki 4 sudut siku-siku

6,5 *pintu, lemari, jendela, jam dinding*

b. Nama benda yang mempunyai 3 sisi dan 3 titik sudut.

17 *penggaris segitiga, hanger*

c. Nama benda yang memiliki 2 pasang sisi yang berhadapan sama panjang dan sejajar

plafon eternit etap, meja

PRETEST

Nama : fatma

Kelas : 111

27,5

I. Jawablah pertanyaan di bawah ini dengan cara memberikan tanda silang pada salah satu jawaban benar!

1. Apa nama bangun datar yang memiliki satu sisi miring dan salah satu sudutnya berbentuk siku-siku?

☒ a. Segitiga siku-siku b. Persegi c. Lingkaran

2.



Toni mempunyai mainan berbentuk segitiga. Ketiga sisi mainan sama panjang. Ketiga pojoknya sama besar. Berbentuk bangun apakah mainan Toni tersebut?

☐ a. Persegi panjang b. Layang-layang ☒ c. Segitiga sama sisi

3.



Nila membuat sapu tangan. Panjang masing-masing sisinya 20 cm. Keempat pojoknya siku-siku. Berbentuk bangun apakah sapu tangan yang dibuat Nila?

☒ a. Persegi ☐ b. Segitiga siku-siku c. Persegi panjang



4. Pak Arifin berkunjung ke Candi Dermo pada hari Minggu. Saat memasuki wilayah candi, Pak Arifin melihat ada sebuah taman berbentuk segiempat di depan Candi. Taman tersebut memiliki 2 pasang sisi yang berhadapan sama panjang dan sejajar serta memiliki 4 sudut siku-siku. Berbentuk bangun apakah taman yang dilihat Pak Arifin?

☒ a. Persegi panjang b. Lingkaran c. Jajar genjang

5.



Ibu mempunyai kue berbentuk segitiga. Kedua sisi kue itu sama panjang. Kedua pojoknya sama besar. Berbentuk apakah kue ibu tersebut?

☒ a. Segitiga sama kaki b. Persegi panjang c. Segitiga siku-siku

II. Jawablah pertanyaan di bawah ini dengan cara mengisi titik-titik dengan jawaban yang benar!

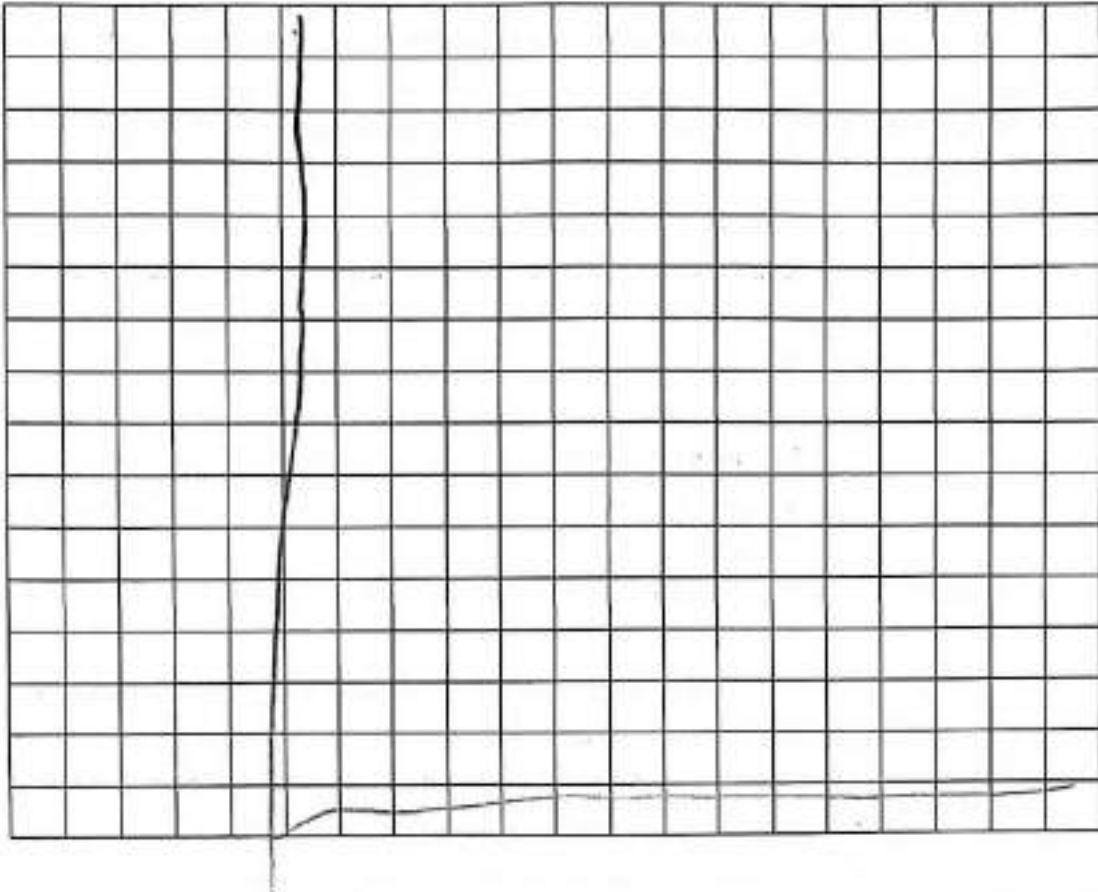


6. Arya dan Doni adalah pesilat hebat. Setiap berlatih silat, mereka selalu menggunakan seragam hitam, dan topi di kepala. Bentuk bangun datar yang ada pada topi Arya dan Doni adalah Segitiga sama kaki 5

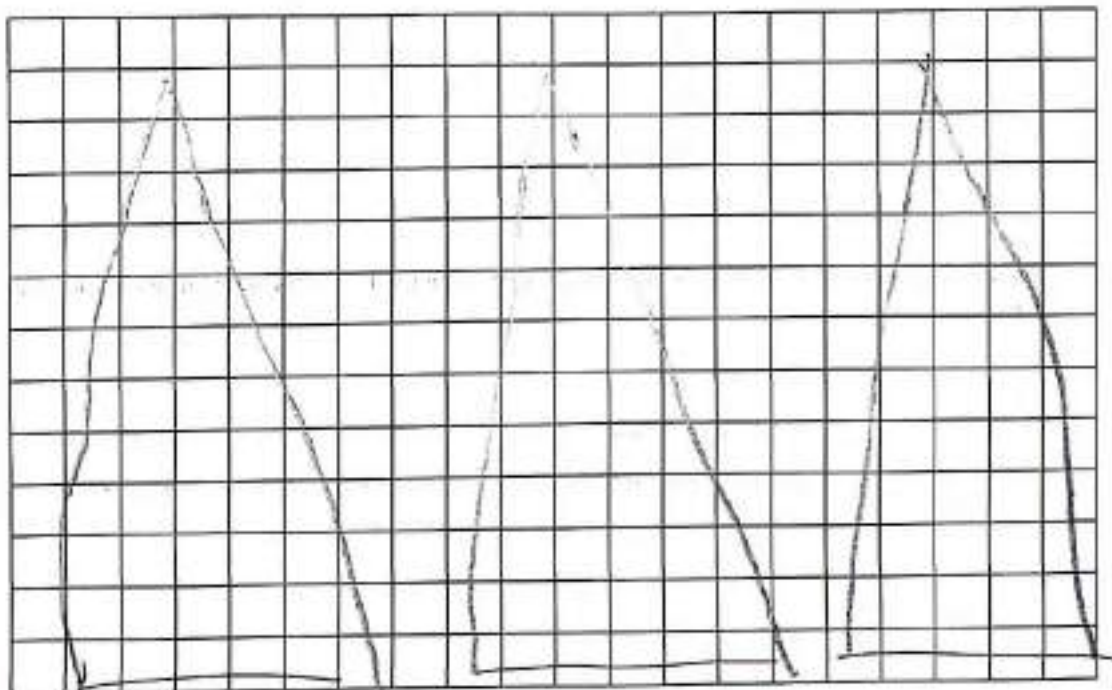


7. Gambar di samping adalah gambar anak tangga yang ada di Candi Dermo, bentuk bangun datar apa yang kamu temukan pada gambar anak tangga disamping? katu

8. Gambarlah ~~dua~~ bangun persegi dan ~~dua~~ bangun persegi panjang yang ukurannya berbeda, kemudian berikan keterangan nama bangun datar apa yang sudah kamu buat!



9. Gambarlah tiga macam segitiga yang kamu ketahui, kemudian berikan keterangan nama bangun datar apa yang sudah kamu buat!



10. Perhatikan gambar di bawah ini!



Lemari



Jendela



Pintu



Penggaris segitiga



Hanger (gantungan baju)



Jam dinding



Plafon eternit atap



Buku



Meja

Kumpulkan benda-benda di atas sesuai dengan sifat yang dimilikinya!

a. Nama benda yang memiliki 4 sisi yang sama panjang dan memiliki 4 sudut siku-siku

8.5 Pintu, Penggaris, Jam, Meja
X X ✓ X

b. Nama benda yang mempunyai 3 sisi dan 3 titik sudut.

Buku, Lemari, Cendekia

c. Nama benda yang memiliki 2 pasang sisi yang berhadapan sama panjang dan sejajar

7 Cendekia, Pintu